

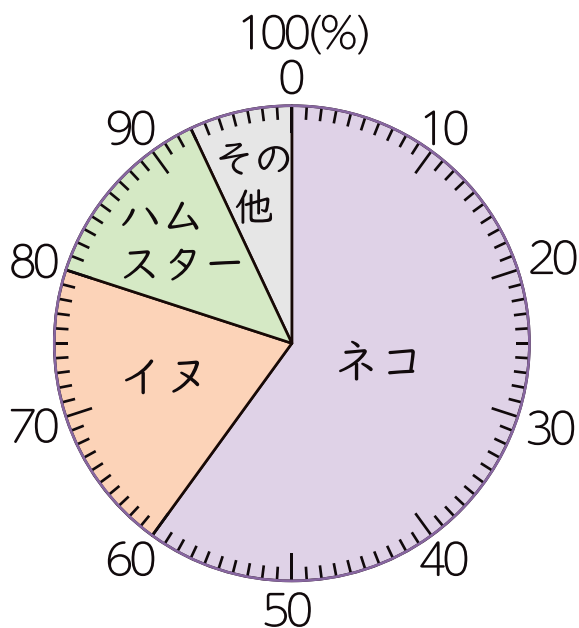


8

5年算数

いろいろなグラフ 立体

1 下の円グラフは、5年A組の30人の好きな動物を表したものです。



① ネコの割合はイヌの割合の何倍ですか。

式

答え

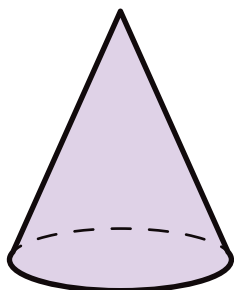
② ネコを選んだのは何人ですか。

式

答え


2 つぎの立体の名前をかきましょう。

①



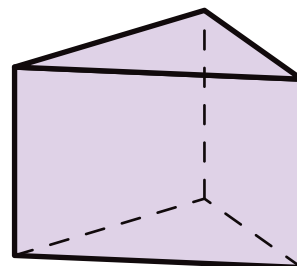
答え

②



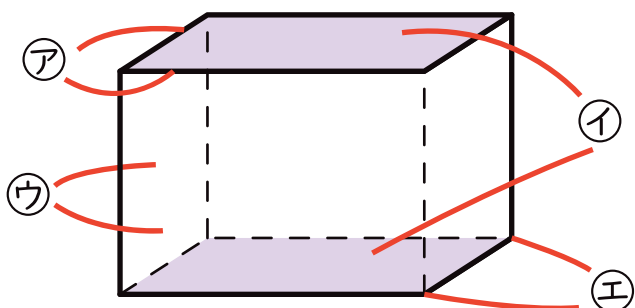
答え

③



答え

3 つぎの㉠～㉥の名前をかきましょう。



㉠

㉡

㉢

㉣