



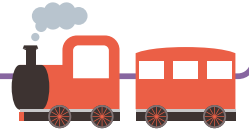
# 6

## 5年算数

分数と小数・整数

割合

図形の面積



1 つぎの数を小さい順に並べましょう。

1.3       $\frac{3}{7}$       2      0      0.85       $1\frac{3}{4}$

( )

2 定員 125 人の電車があります。つぎの問題に答えましょう。

① 75 人乗っているとき、乗客数は定員の何 % ですか。

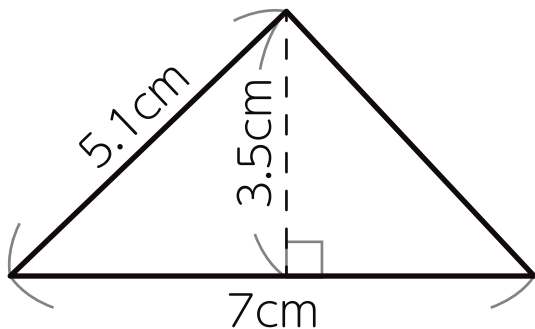
式 ( ) 答え ( )

② 乗車率が 88% のとき、乗客数は何人ですか。

式 ( ) 答え ( )

3 つぎの図形の面積を求めましょう。

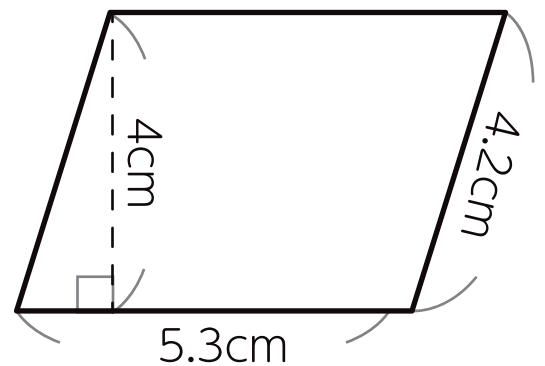
①



式

答え

②



式

答え