

かけ算 ばい

名前

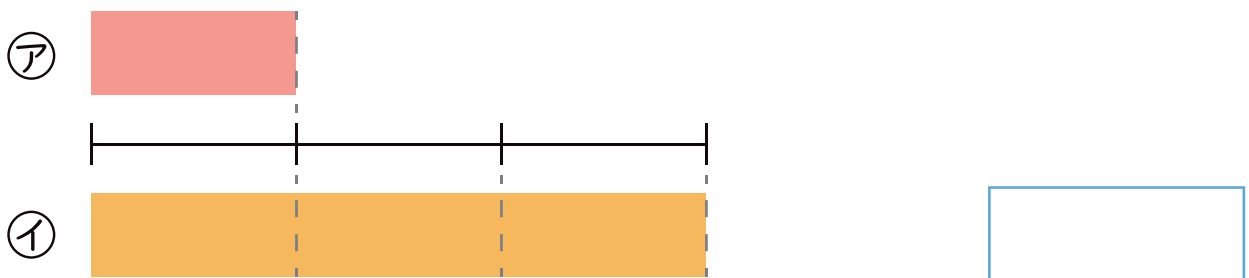
1  にあてはまる ことばや数 を かきましょう。

① 3 の 2 つ分を、3 の  といいます。

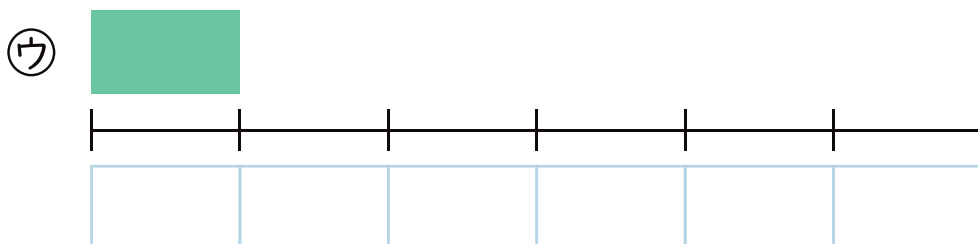
② 5cm の 3 つ分を、5cm の  といいます。

③ 4 人の 5 ばいは、 $4 \times$   であらわすことができます。

2 ① のリボンの長さは、② のリボンの長さの 何ばい ですか。



3 ③ のリボンの長さの 4 ばいの長さになるよう、 に色をぬりましょう。







名前

かけ算 ばい

1 かけ算のしきにあらわしましょう。

①  の3ばい

②  の2ばい

③ 5人の7ばい

④ 4この1ばい

⑤ 8台の5ばい

2 マメツプは、えんぴつを4本もっています。

弟がもっている えんぴつの数は、マメツプがもっている  
えんぴつの数の3ばいです。

弟がもっている えんぴつの数は何本ですか。



しき

答え