



2

6年理科まとめ

名前

1 人の体のはたらきについて、□にあてはまる言葉を書きましょう。

■ 人は息をすることで、空気中の□を体内に

取り入れ、□を体外に出している。

これを、□という。

■ 食べ物は口から入り、□と混ぜられ、

□を□を通して□や小腸へ運ばれなが

ら体に吸収されやすい養分へと変化する。

これを、□という。


2 ホウセンカを色水につけ、しばらくしてからくきと葉の断面を調べました。

① くきの断面はア～ウのどれですか。


ア

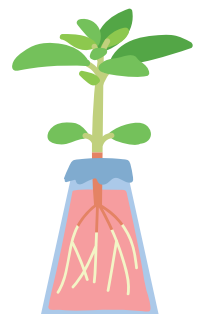


イ



ウ





② 葉の断面はア～ウのどれですか。

ア



イ



ウ

