

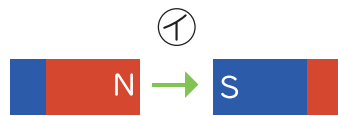
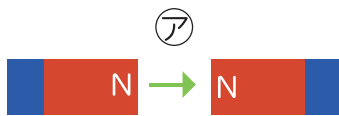


5

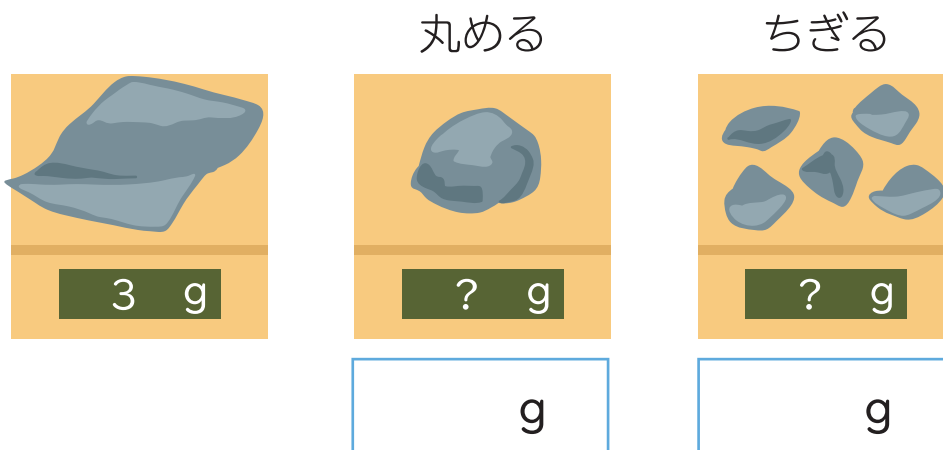
3年 理科まとめ

名前

- 1 じしゃくとじしゃくを近づけたとき、引きつけあうものをえらんで記号で答えましょう。



- 2 はかりを使って、アルミニウムはくの重さを調べます。アルミニウムはくの形を変えたり、細かくしたりすると重さは何 g になりますか。



- 3 マメツプの体重は 28kg です。右のようにはかると、体重は何 kg になりますか。

かた足でのる kgすわる kg