

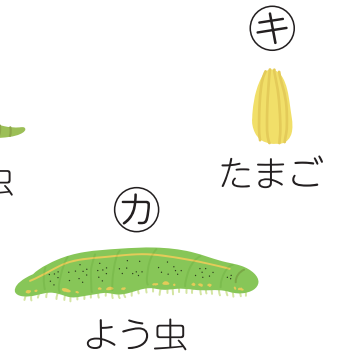




2

3年 理科まとめ

名前

- 1 下の絵を、ショウリョウバッタとモンシロチョウが育つじゅんにならべましょう。



ショウリョウバッタ

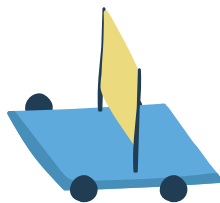
 ➡ ➡

モンシロチョウ

 ➡ ➡ ➡

- 2 風で動く車とゴムで動く車について、正しく説明している文をえらんで () に○をつけましょう。

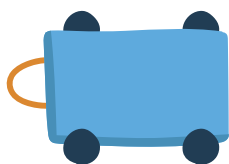
① 風で動く車 () 風が弱いほど、遠くまで走る。



() 風が強いほど、遠くまで走る。

() 風の強さは、車の動きに関係しない。

② ゴムで動く車 () ゴムを短く伸ばすと、遠くまで走る。



() ゴムを長く伸ばすと、遠くまで走る。

() ゴムの伸ばし方は、車の動きに関係しない。