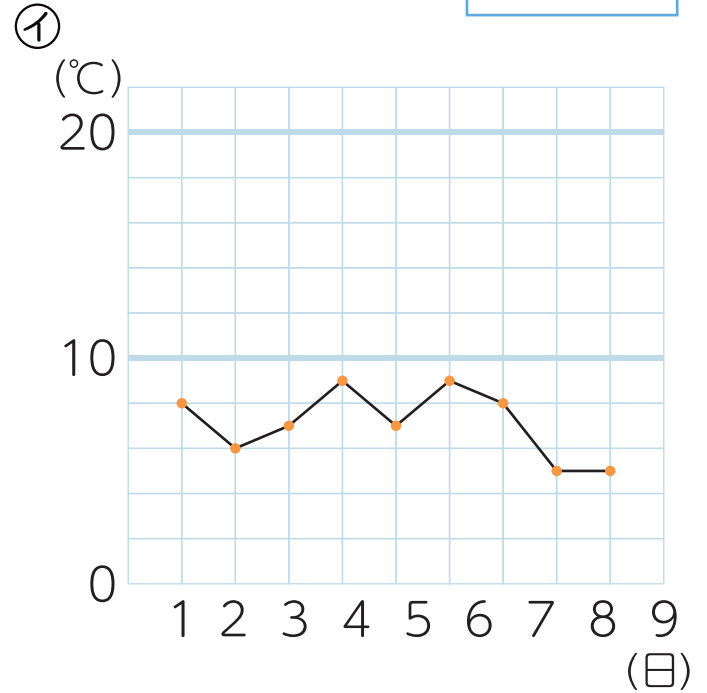
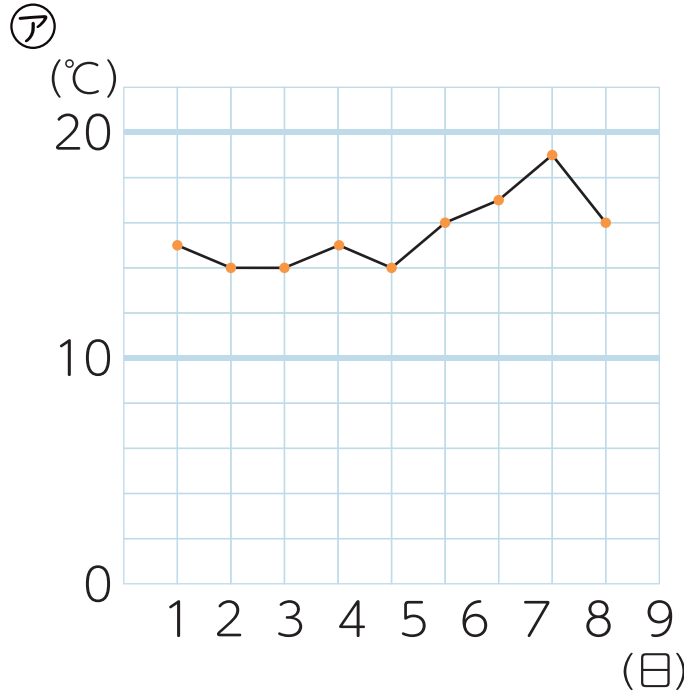




春の生き物


名前

- 1 下のグラフは、春(4月)と冬(1月)の気温を表しています。春(4月)のグラフは㉠と㉡のどちらですか。



- 2 春に見られる生き物の名前を から選んで書きましょう。

ナナホシテントウ・アゲハ・モンシロチョウ・ヒグラシ





2

春の生き物

名前


1 次の生き物の春のすがたを選んで○をつけましょう。

① オオカマキリ

()



()




② ショウリョウバッタ

()



()



③ チューリップ

()



()



④ サクラ

()



()

