

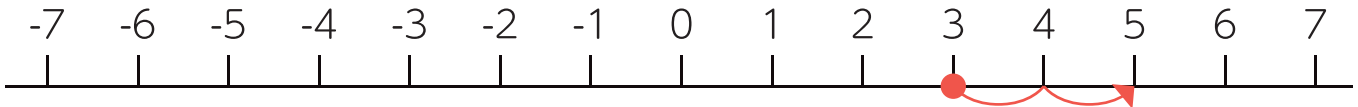


正の数 負の数  
たし算と引き算

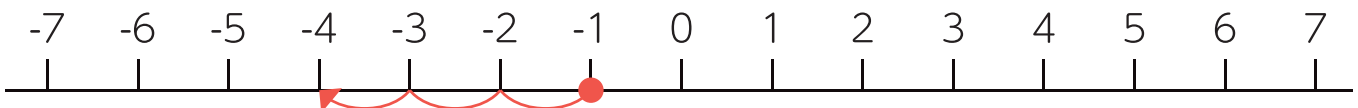
名前

1 数直線を参考にしながら、次の計算をしましょう。

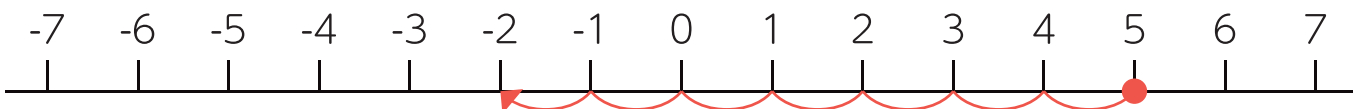
①  $(+3) + (+2) =$



②  $(-1) + (-3) =$



③  $(+5) + (-7) =$



2 次の計算をしましょう。

①  $(+5) + (+6) =$

②  $(+8) + (-1) =$

③  $(-6) + (+4) =$

④  $(-7) + (-3) =$

⑤  $(-3) + (+2) =$

⑥  $(+5) + (-9) =$

⑦  $(+7) + (+2) =$

⑧  $(-1) + (-7) =$

⑨  $(-4) + (+2) =$

⑩  $(+5) + (-8) =$