

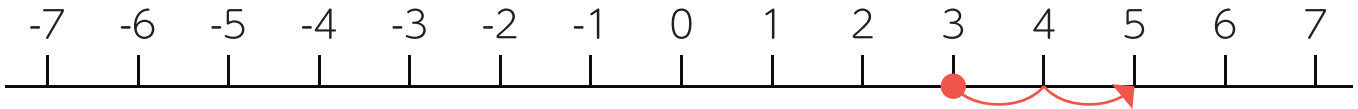


正の数 負の数
たし算と引き算

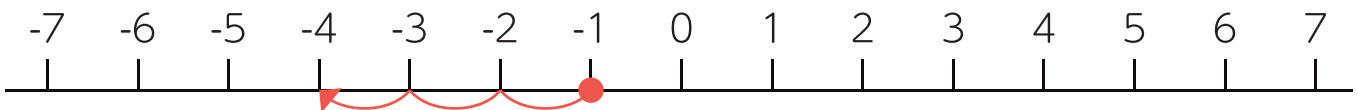
名前

1 数直線を参考にしながら、次の計算をしましょう。

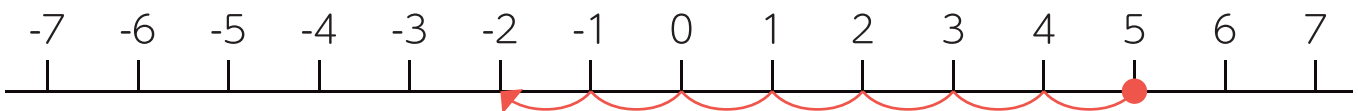
① $(+3) + (+2) =$



② $(-1) + (-3) =$



③ $(+5) + (-7) =$



2 次の計算をしましょう。

① $(+5) + (+6) =$

② $(+8) + (-1) =$

③ $(-6) + (+4) =$

④ $(-7) + (-3) =$

⑤ $(-3) + (+2) =$

⑥ $(+5) + (-9) =$

⑦ $(+7) + (+2) =$

⑧ $(-1) + (-7) =$

⑨ $(-4) + (+2) =$

⑩ $(+5) + (-8) =$



2

正の数 負の数 たし算と引き算

名前

1 正負の数の引き算を計算をしましょう。

$$\begin{aligned} \textcircled{1} (+6) - (+2) &= \square + \square \\ &= \square \end{aligned}$$

$$\begin{aligned} \textcircled{2} (-4) - (+1) &= \square + \square \\ &= \square \end{aligned}$$

$$\begin{aligned} \textcircled{3} (+5) - (-3) &= \square + \square \\ &= \square \end{aligned}$$

$$\begin{aligned} \textcircled{4} (-8) - (-6) &= \square + \square \\ &= \square \end{aligned}$$

正負の数の引き算

引く数の符号をかえて、
たし算に直して計算します。



2 次の計算をしましょう。

$$\textcircled{1} (+6) - (+5) = \square$$

$$\textcircled{2} (-3) - (+6) = \square$$

$$\textcircled{3} (+2) - (-4) = \square$$

$$\textcircled{4} (-9) - (-3) = \square$$

$$\textcircled{5} (+3) - (+7) = \square$$

$$\textcircled{6} (-2) - (+8) = \square$$

$$\textcircled{7} (+6) - (-7) = \square$$

$$\textcircled{8} (-4) - (-2) = \square$$

$$\textcircled{9} (+8) - (-3) = \square$$

$$\textcircled{10} (-5) - (-2) = \square$$



3

正の数 負の数
たし算と引き算

名前

1 2つの解き方で計算をしましょう。

① $-6 - 3$

解き方1

-6から3を引くと考えます。

$$(-6) - (+3) = \square$$

解き方2

-6と-3の和を求めると考えます。

$$(-6) + (-3) = \square$$

2 次の計算をしましょう。

① $5 - 9 =$

② $-4 - 3 =$

③ $-8 + 4 =$

④ $2 - 5 =$

⑤ $-7 - 2 =$

⑥ $-1 + 6 =$

⑦ $4 - 8 + 9 =$

⑧ $-9 + 1 - 5 =$

⑨ $-6 - 6 + 7 =$

⑩ $-3 - 7 - 1 =$

⑪ $-5 + 6 - 3 =$

⑫ $3 - 9 + 5 =$