



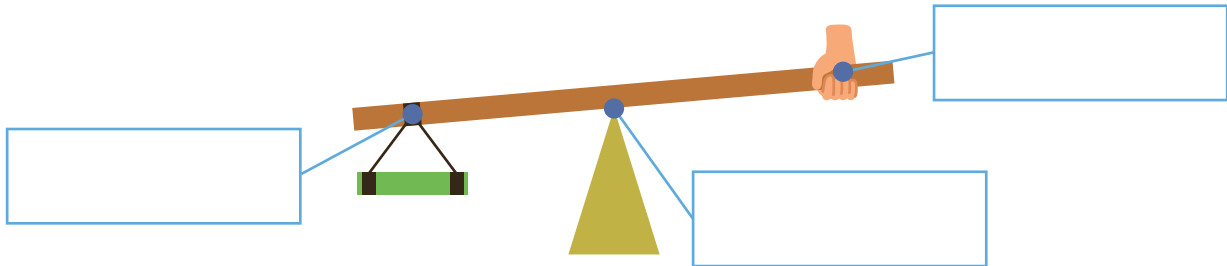
てこのはたらき

名前

1 下の図のようなしくみを「てこ」といいます。

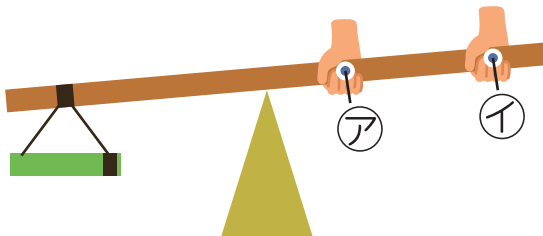
にあてはまる言葉を から選んで書きましょう。

支点 ・ 力点 ・ 作用点



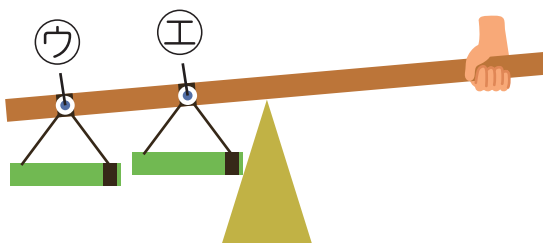
2 「てこ」のしくみを使ってものを持ち上げます。

① ㊦と㊧のどちらを持つと、小さい力で持ち上げることができますか。



変えない条件
支点と作用点の位置

② ものの位置を㊨と㊩のどちらにすると、小さい力で持ち上げることができますか。



変えない条件
支点と力点の位置