

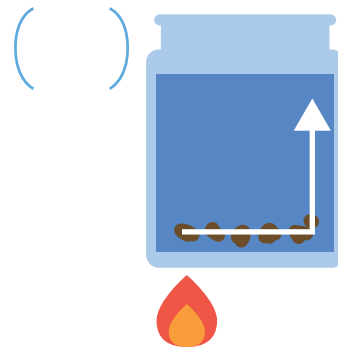
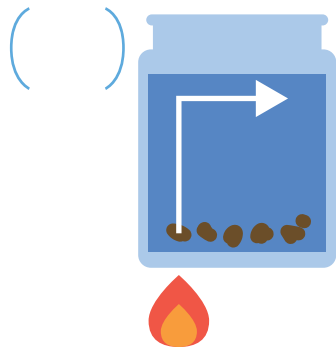


2

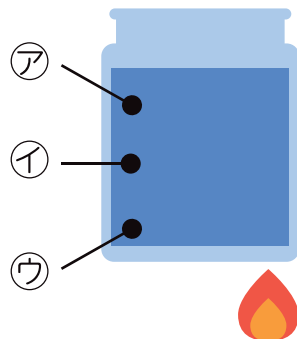
## もののがたまり方

名前

- 1 ビーカーに水とこう茶の葉をいれ熱します。  
 こう茶の葉の動きとして正しい方を選んで○をつけましょう。



- 2 水の入ったビーカーを下の図のように熱すると、最初に温度が高くなるのはア～ウのどの位置ですか。




- 3 空気がたまり方について、 にあてはまる言葉を書きましょう。

- 空気は  と同じように熱せられたところの  
 温度が  なる。温度が高くなった空気が  
 の方へ動き、上の方にあった温度の低い  
 空気が  の方へ動く。