



2

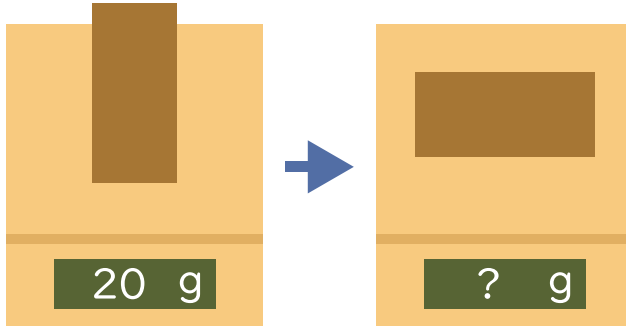
ものの重さ

名前

1 木のつみきをたてにしてはかると 20g でした。

横にしてはかると重さはどうなりますか。

㊦～㊵で答えましょう。




㊦ 20g よりかるい。

㊩ 20g と同じ。

㊵ 20g より重い。


2 同じ体積の金ぞく、木、ガラス、プラスチックの重さをはかると下の図のようになりました。

重い順にならべましょう。




185 g

金ぞく




20 g

木



75 g

ガラス



28 g

プラスチック

