

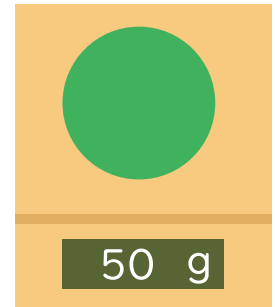


ものの重さ


名前

1 はかりを使ってねん土の重さを調べます。


① 右のねん土の重さは何 g ですか。

 g


② ①のねん土を細長いぼうの形に変えてはかります。重さは何 g ですか。

 g


③ ①のねん土を小さく分けてはかります。重さは何 g ですか。

 g


2 てんびんを使ってものの重さを調べました。
重い方に○をつけましょう。

