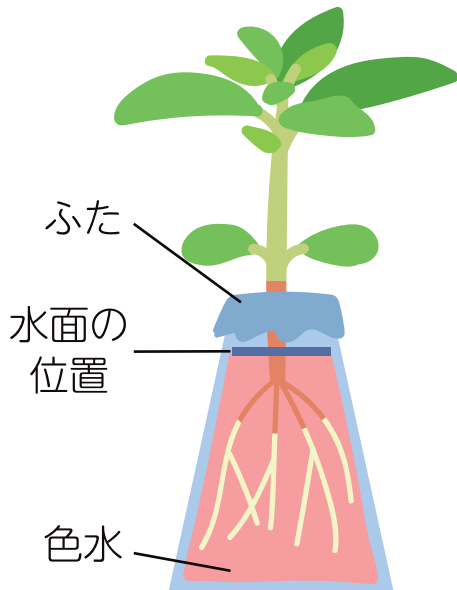




植物の体のつくりと 水との関わり

名前

- 1 左下の図のようにホウセンカを色水につけて、
水がどこを通るか調べます。




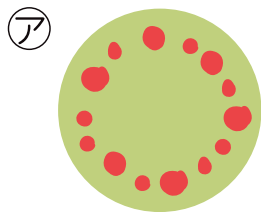
- ① ふたをするのはなぜですか。

- ② しばらくおいておくと、水面の位置は
どうなりますか。

- ③ ①と②から、水はどうなったといえますか。

■ 植物の から 。

- ④ くきの断面のそまり方で正しい方を記号で答えましょう。



- ⑤ 葉の断のそまり方で正しい方を記号で答えましょう。

