




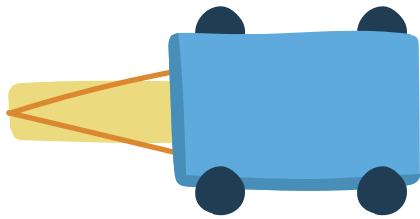
## 風とゴムの力

名前

1 ゴムで動く車を、ゴムののばす長さをかえて走らせます。  
より遠くまで進むのは、㊦と㊧のどちらですか。

㊦ ゴムを長くのばす


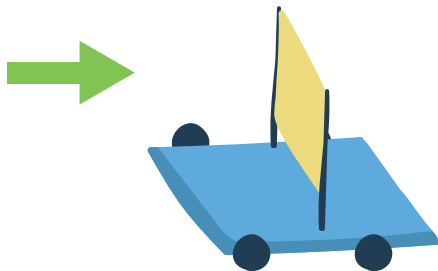
㊧ ゴムを短くのばす




2 風で動く車を、風をあてる強さをかえて走らせます。  
より遠くまで進むのは、㊦と㊧のどちらですか。

㊦ 弱い風をあてる

㊧ 強い風をあてる




3 □ のうち、ゴムの力を使っているものをえらびましょう。

風力発電・ヨット・ゴムパチンコ