




## こん虫の育ち方

名前


- 1 アゲハチョウの育ち方について、次の名前を [ ] からえらんで [ ] に書きましょう。

さなぎ ・ たまご ・ せい虫 ・ よう虫



- 2 モンシロチョウの体の部分の名前を [ ] に書きましょう。



- 3 つぎの問題に答えましょう。

① チョウの足は、体のどの部分にありますか。

② チョウの足は、何本ありますか。




2

## こん虫の育ち方

名前

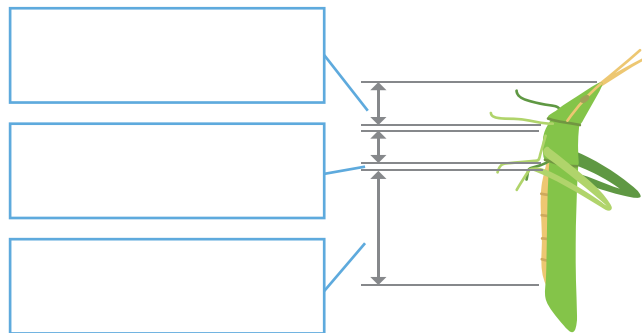
- 1 ショウリョウバッタの育ち方について、次の名前を [ ] からえらんで [ ] に書きましょう。

さなぎ ・ たまご ・ せい虫 ・ よう虫






- 2 ショウリョウバッタの体の部分の名前を [ ] に書きましょう。



- 3 [ ] にあてはまる数や言葉を書きましょう。

モンシロチョウやショウリョウバッタのように、体が [ ] つの部分からできていて、[ ] に [ ] 本のあしがある虫を [ ] といいます。

3  
6  
むね  
はら  
こん虫