









  <p>地図記号</p>	<p>名前</p>
---	-----------

下の地図記号が表しているものを からえらんで書きましよう。

学校	寺	ゆうびんきょく 郵便局	病院	市役所
しょうぼうしょ 消防署	田	畑	けいさつしょ 警察署	神社

	
	
文	
	
卍	



2

地図記号

名前

1 4人の話をもとに、地図記号カードをはり、地図をかんせいさせましょう。



あやか

学校の南に図書館があるよ。



さくら

病院の南にはお寺があるんだって。



けん

図書館の東には郵便局、西には神社があったよ。



ゆうき

学校の北東には病院、北西には消防署があるよ。

切って使おう！

