

算数勇者 小3 わり算

問題をといて、ドラゴンをたおそう！


①



① $12 \div 2 =$



を てに 入れた！



② $15 \div 3 =$



を てに 入れた！

③ $36 \div 4 =$



を てに 入れた！

火の玉を
たおそう！



④ $56 \div 8 =$



を てに 入れた！

⑤ $7 \div 1 =$




を てに 入れた！

ドラゴンを たおそう！



⑥ $0 \div 4 =$



ゲームクリア！

ゆうしゃ
勇者の名前

算数勇者

小3 わり算

問題をといて、ドラゴンをたおそう！

②



① $18 \div 6 =$

 を てに いった！



ミミックを
たおそう！



③ $48 \div 6 =$

 を てに いった！

② $21 \div 3 =$


 を てに いった！



④ $63 \div 7 =$

 を てに いった！

⑤ $0 \div 8 =$

 かいふく した！

ドラゴンを たおそう！



⑥ $1 \div 1 =$



ゲームクリア！

ゆうしゃ
勇者の名前