

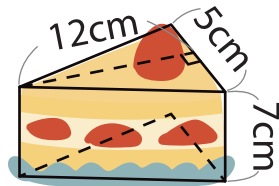


2

およその 面積や体積

名前

立体も、簡単な形に置きかえて計算することができます。



三角柱に置きかえて

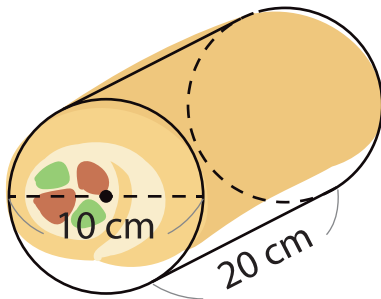
$$5 \times 12 \div 2 \times 7 = 210$$

約 210 cm^3



■ 次の形のおよその体積を求めましょう。

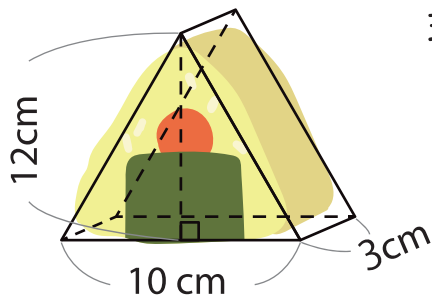
①



式

答え

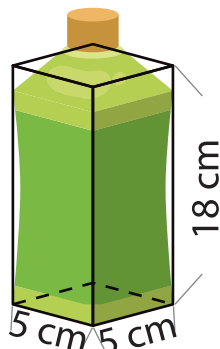
②



式

答え

③



式

答え