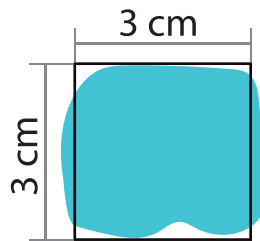




およその  
面積や体積

名前

複雑な形も、簡単な形に置きかえて計算することができます。



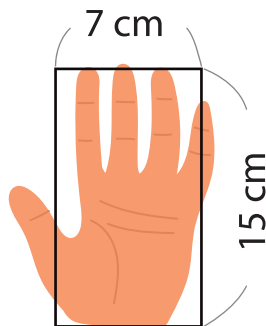
正方形に置きかえて

$$3 \times 3 = 9$$

$$\text{約 } 9 \text{ cm}^2$$

■ 次の形のおよその面積を求めましょう。

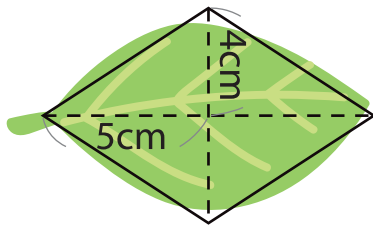
①



式

答え

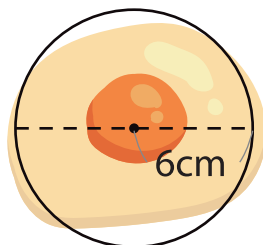
②



式

答え

③



式

答え