




名前


# かけ算九九づくり

1 ●を線でかこんで、つぎのかけ算をあらわしましょう。

①  $3 \times 4$




②  $4 \times 3$



2 ●の数をくふうしてもとめましょう。

もとめ方を線でかこんであらわし、しきを書きましょう。



しき

3 いちごが1つぶ入ったはこが7はこあります。

いちごはぜんぶで何こありますか。



しき

答え