



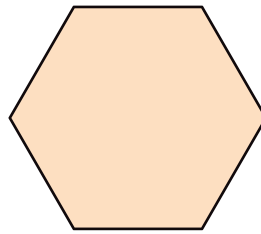
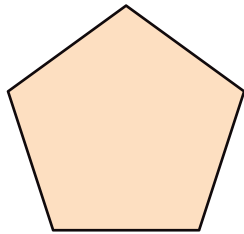
正多角形と円

名前

1 にあてはまる言葉を書きましょう。

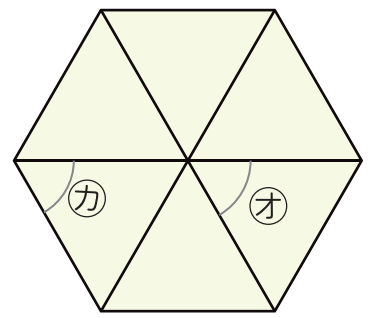
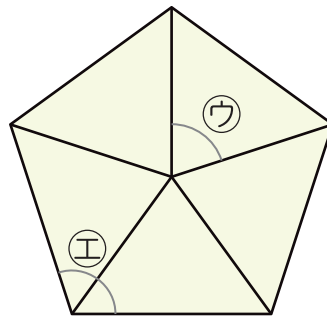
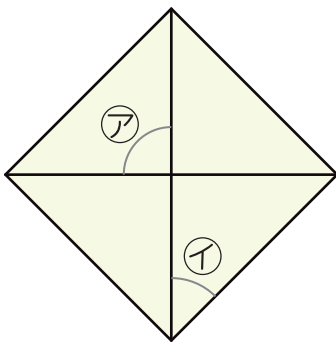
① 辺の長さがみんな等しく、角の大きさもみんな等しい多角形を といいます。

② 下の図形の名前は、



です。

2 次の㉠～㉦の角度は何度ですか。



㉠

㉢

㉤

㉡

㉣

㉥