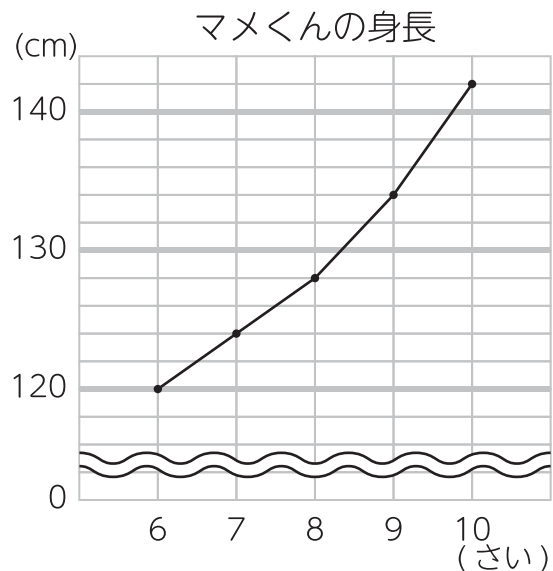


小4夏の確認テスト2



100点

- 下のグラフは、マメくんの6さい~10さいまでの身長の変わり方を表しています。(1問5点×2=10点)



- ① 8さいのときの身長は何cmですか。

- ② 最も身長がのびたのは何さいから何さいの間ですか。

- 52人の子どもたちを4人ずつの

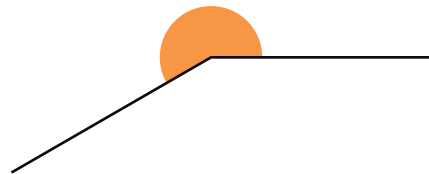
グループに分けます。何グループできますか。

(式10点 答え10点 筆算10点)

式

答え

- 次の角の大きさをはかりましょう。(10点)



- 次の数を数字で書きましょう。(10点)

- ① 八兆四百六十二億五千九十三万六千三百

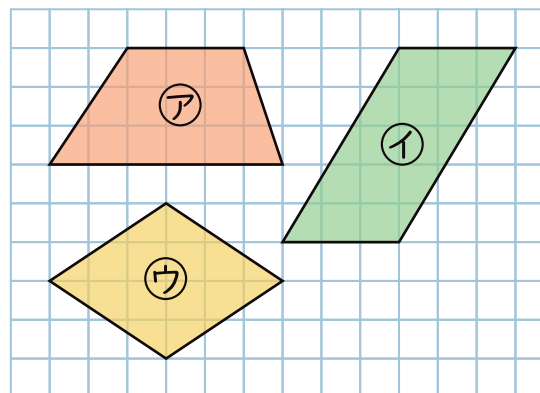
十兆	一兆	千億	百億	十億	一億	千万	百万	十万	一万	千	百	十	一

- 計算しましょう。(1問5点×2=10点)

① $100 + 16 \div 4 =$

② $(4 + 12) \div 2 =$

- 四角形の名前を答えましょう。(1問10点×3=30点)



ア

イ

ウ