

小3夏の確認テスト1



100点

■ にあてはまる数を書きましょう。

(1問10点×3=30点)

① $6 \times 5 = 6 \times 4 +$

② $3 \times 8 - 3 = 3 \times$

③ $9 \times 0 =$

■ 計算しましょう。

(1問5点×2=10点)

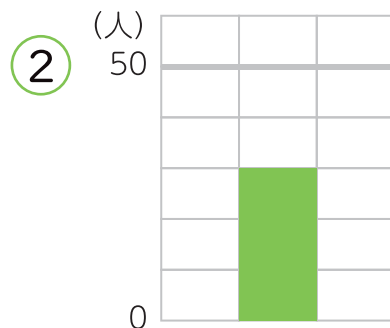
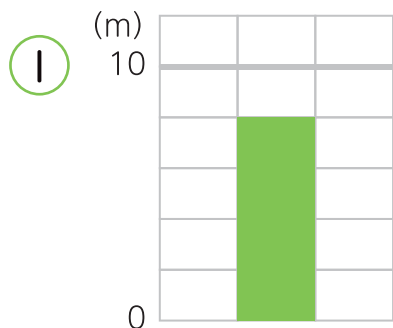
①

	6	4	0
+	1	9	2

②

	3	8	5
-	3	3	7

■ 1目もりの大きさを答えましょう。(1問5点×2=10点)



■ にあてはまる数を書きましょう。

(1問5点×2=10点)

① 1分 = 秒

② 70秒 = 分 秒

■ 計算しましょう。

(1問5点×2=10点)

① $49 \div 7 =$

② $27 \div 3 =$

■ 38まいのおり紙を、5まいずつに分けます。

何セットできて、何まいあまりますか。

(式10点 答え10点)

式

答え

セットできて、

まいあまる。

■ にあてはまる数を書きましょう。

(1問5点×2=10点)

① 半径5cmの円の直径は cmです。

② 直径8cmの円の半径は cmです。

小3夏の確認テスト2



100点

- にあてはまる数を書きましょう。

(1問5点×2=10点)

- ① 3×7 の答えは、 3×2 と $3 \times$ を合わせた数です。
- ② 5×9 の答えは、 5×3 と $\times 6$ を合わせた数です。

- 185 円のジュースと、327 円のパンを買いました。

代金は何円ですか。

(式 10 点 答え 10 点 筆算 10 点)

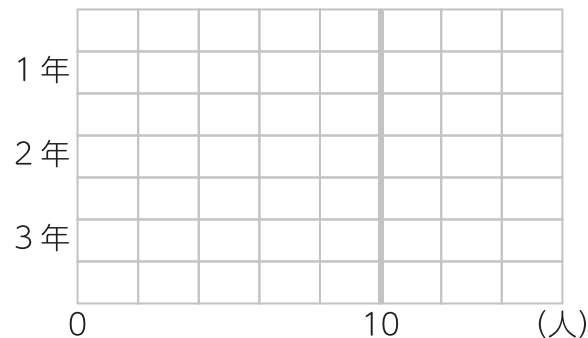
式

答え

- 下の表を、ぼうグラフに表しましょう。

(完答で 10 点)

学年	人数(人)
1年	14
2年	8
3年	12



- 時間の計算をしましょう。

(1問5点×2=10点)

① $2 \text{時間 } 30 \text{分}$
 $+ 1 \text{時間 } 15 \text{分}$

② $5 \text{時間 } 40 \text{分}$
 $- 2 \text{時間 } 20 \text{分}$

- 54 このチョコを同じ数ずつ9人で分けると、

1人分は何こになりますか。

(式 10 点 答え 10 点)

式

答え

- 計算しましょう。

(1問5点×2=10点)

① $19 \div 9 =$ あまり

② $30 \div 4 =$ あまり

- 直径 5cm の円をかきましょう。

(10 点)

