

小2夏の確認テスト1 

100点

- おかしの数をかぞえて、

ひょうに数字をかきましょう。

(完答で20点)



				
チョコ	ケーキ	マフィン	あめ	クッキー

- つぎの計算をしましょう。

(1問10点×2=20点)

①

	5	1
+	2	7

②

	9	6
-	4	2

- にあてはまる数をかきましょう。

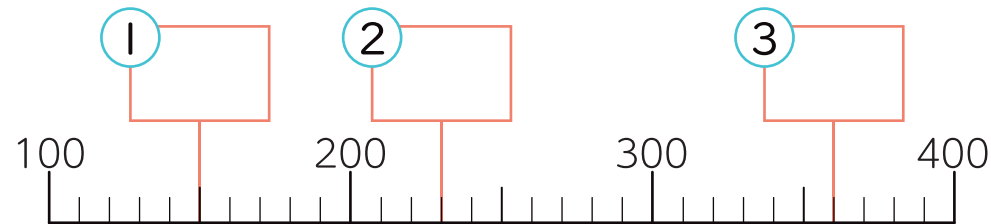
(1問5点×2=10点)

① 9cm = mm

② 30mm = cm

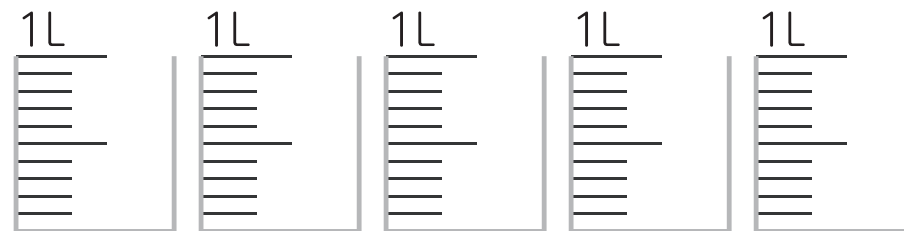
- にあてはまる数をかきましょう。

(1問5点×3=15点)

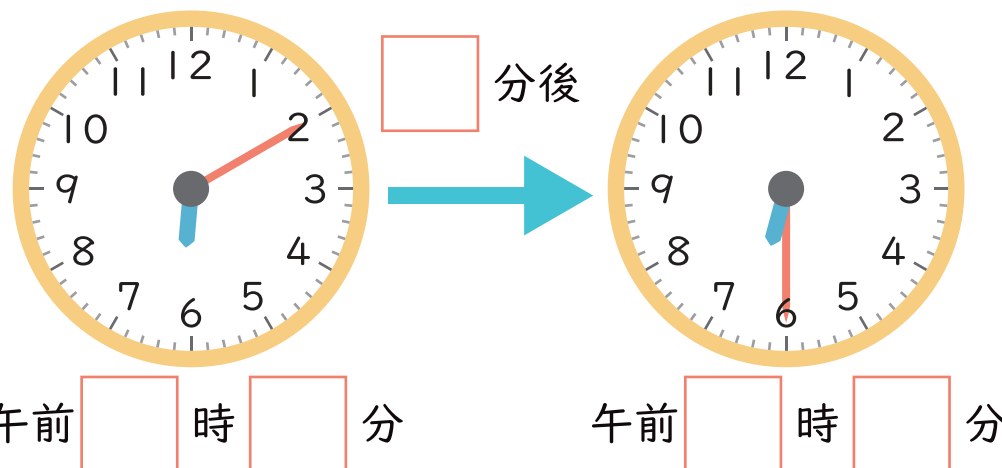


- 3L 6dL 分だけ色をぬりましょう。

(完答で20点)



- にあてはまる数をかきましょう。

(3点×5=15点)

小2夏の確認テスト2



100点

■ 野さいの数をしらべました。もんだいに

答えましょう。

(1問5点×3=15点)

			○
	○		○
	○		○
	○	○	○
○	○	○	○
に	玉	ト	レ
ん	ねぎ	マト	タ
じん			ス

① 一番多い野さいはどれですか。

② 一番少ない野さいはどれですか。

③ 玉ねぎとトマトでは、どちらが
何こ多いですか。

 が こ多い。

■ 35円のあめと25円のチョコを買いました。

あわせて何円ですか。

(式10点 答え10点 筆算10点)

しき

答え

円

■ つぎの計算をしましょう。

(1問5点×2=10点)

① $3\text{cm } 4\text{mm} + 2\text{cm } 2\text{mm} =$

② $10\text{cm } 8\text{mm} - 6\text{cm } 3\text{mm} =$

■ にあてはまる数をかきましょう。

(1問5点×2=10点)

① 320は10をこあつめた数です。

② 1000は100をこあつめた数です。

■ にあてはまる数をかきましょう。

(1問5点×4=20点)

① $1\text{L} =$ mL

② $3\text{L} =$ dL

③ $5\text{dL} =$ mL

④ $8\text{dL} =$ mL

■ にあてはまる数をかきましょう。

(1問5点×3=15点)

① 1時間 = 分

② 1日 = 時間

③ $90\text{分} =$ 時間 分