

小1夏の確認テスト1



100点

■ すうじのかずだけいろをぬりましょう。

(1問10点×2=20点)

① 5 ○○○○○○○○○② 8 ○○○○○○○○○

■ まえから4ばんめに○をつけましょう。

(1問10点)

まえ



うしろ

■ 6はいくつといくつですか。

(1問5点×2=10点)

① 6は5と ② 6は2と

■ くるまが3だいあります。1だいくるとぜんぶで

なんだいになりますか。

(しき10点 答え10点)



しき + =

こたえ だい

■ ばななが7ほんあります。2ほんたべるとのこりはなんほんになりますか。



(しき10点 答え10点)

しき - = こたえ ほん

■ くだものかずをしらべました。

もんだいにこたえましょう。

(1問10点×2=20点)

すいか		<input checked="" type="radio"/> ○ ○ ○ ○ ○ ○ ○ ○ ○ ○
りんご		<input checked="" type="radio"/> <input checked="" type="radio"/> <input checked="" type="radio"/> <input checked="" type="radio"/> ○ ○ ○ ○ ○ ○ ○ ○
いちご		<input checked="" type="radio"/> <input checked="" type="radio"/> <input checked="" type="radio"/> <input checked="" type="radio"/> <input checked="" type="radio"/> <input checked="" type="radio"/> <input checked="" type="radio"/> ○ ○ ○ ○
ばなな		<input checked="" type="radio"/> <input checked="" type="radio"/> <input checked="" type="radio"/> ○ ○ ○ ○ ○ ○ ○ ○

① いちばんおいしいくだものはどれですか。

② いちばんすくないくだものはどれですか。

小1夏の確認テスト2 

100点

■ かずをかぞえてすうじをかきましょう。

(1問10点×2=20点)

①



②



■ いちごはひだりからなんばんめですか。

(1問10点)

ひだり



みぎ

りんご

バナナ

とまと

いちご

にんじん

ばんめ

■ 10はいくつといくつですか。

(1問5点×2=10点)

① 10は2と

② 10は5と

■ けいさんしましょう。

(1問5点×4=20点)

① $2 + 4 =$ ② $7 + 1 =$ ③ $5 - 3 =$ ④ $9 - 8 =$

■ みどりのくれよんが3ぼん、あかいくれよんが2ぼんあります。あわせてなんぼんありますか。

(しき10点 答え10点)



しき

+

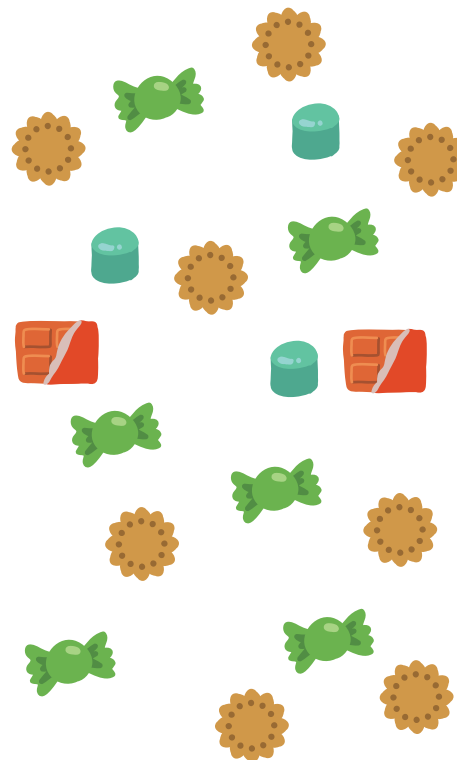
=





こたえ

ぼん

■ おかしのかずをしらべます。みぎしたの○に、おかしのかずだけしたからいろをぬりましょう。

(完答で20点)



○	○	○	○
○	○	○	○
○	○	○	○
○	○	○	○
○	○	○	○
○	○	○	○
○	○	○	○
○	○	○	○
○	○	○	○
○	○	○	○
○	○	○	○
			
あめ	ちよこ	くつきー	らむね