

夏の確認テスト 1




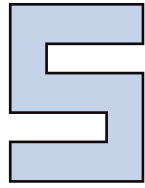
100点

■ 線対称な図形には○、点対称な図形には△を

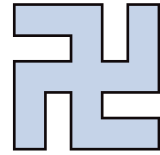
書きましょう。

(1問5点×4=20点)







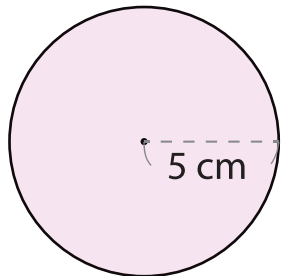


■ 約分しながら、計算しましょう。(1問5点×2=10点)

① $\frac{5}{6} \times 2 =$

② $\frac{3}{8} \div 9 =$

■ 下の図形の面積を求めましょう。(式10点 答え10点)



式

答え

■ x が5のときの y の値を求めましょう。

(1問10点×2=20点)

① $y = 8 + x$

② $y = 30 \div x$

答え

答え

■ 次の資料は、6年A組の女子8人が1週間に

読んだ本の数を表しています。(1問5点×2=10点)

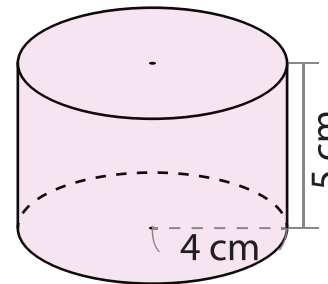
5, 4, 6, 4, 3, 5, 4, 8 (冊)

① 最頻値と中央値を求めましょう。

最頻値

中央値

■ 下の図形の体積を求めましょう。(式10点 答え10点)



式

答え