

## 小5夏の確認テスト1



100点

■ つぎの計算をしましょう。

(1問5点×3=15点)

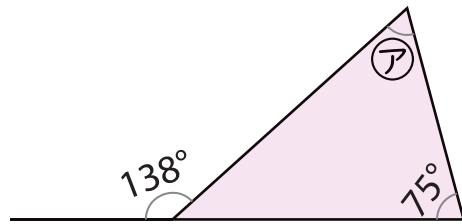
①  $5.24 \times 10 =$

②  $96.1 \times 100 =$

③  $3.07 \div 100 =$

■ ①の角度を求めましょう。

(式10点 答え10点)



式

答え

■ リボンの長さとお金は、比例していますか。

(1問10点)

リボンの長さ (m)	1	2	3	4
料金 (円)	100	200	300	400

■ つぎの計算をしましょう。

(1問10点×2=20点)

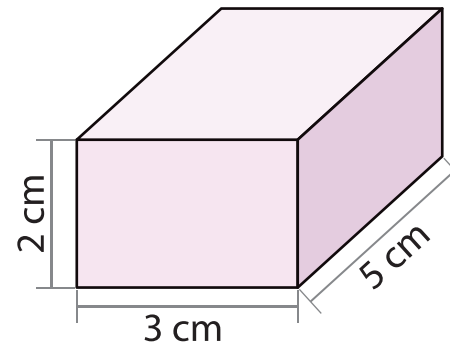
①

		9	2
	×	3	6
<hr/>			

②

2	.	6	∣	8	.	3	2

■ 下の立体の体積を求めましょう。(式10点 答え10点)

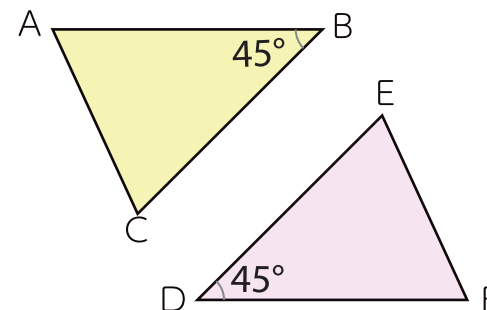


式

答え

■ 次の三角形は合同です。対応する辺、ちょう点、角を答えましょう。

(1問5点×3=15点)



辺 AC

ちょう点 F

角 B