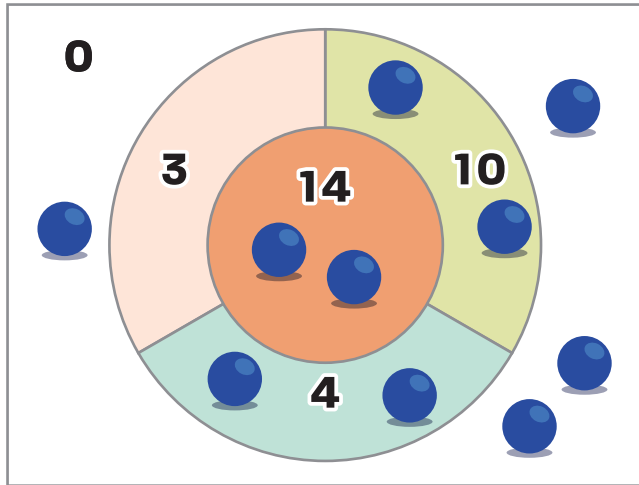





夏の総まとめ

かけ算

■ ボール投げで遊びます。



① ボールの個数を、
下の表に書きましょう。



点数 (点)	3	4	10	14	0
ボールの数 (こ)				2	

② 3点のまとのとく点を、計算しましょう。

式

答え

③ 0点のまとのとく点を、計算しましょう。

式

答え

④ 4点のまとのとく点を、計算しましょう。

式

答え

⑤ 10点のまとのとく点を計算しましょう。

式

答え

⑥ 4点と10点のまとのとく点を
つかって、
14点のまとのとく点を計算しましょう。

式

答え



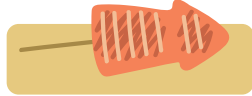
夏の総まとめ

たし算とひき算の筆算

■ 屋台で食べ物を買います。




やきそば
487 円



いかやき
630 円



たこやき
415 円



ポテト
358 円

① いかやきとポテトは、あわせていくらですか。

式

答え

② やきそばとたこやきは、あわせていくらですか。

式

答え

③ いかやきは、やきそばより何円高いですか。

式

答え

④ 500 円もっています。たこやきを買うとおつりはいくらですか。

式

答え

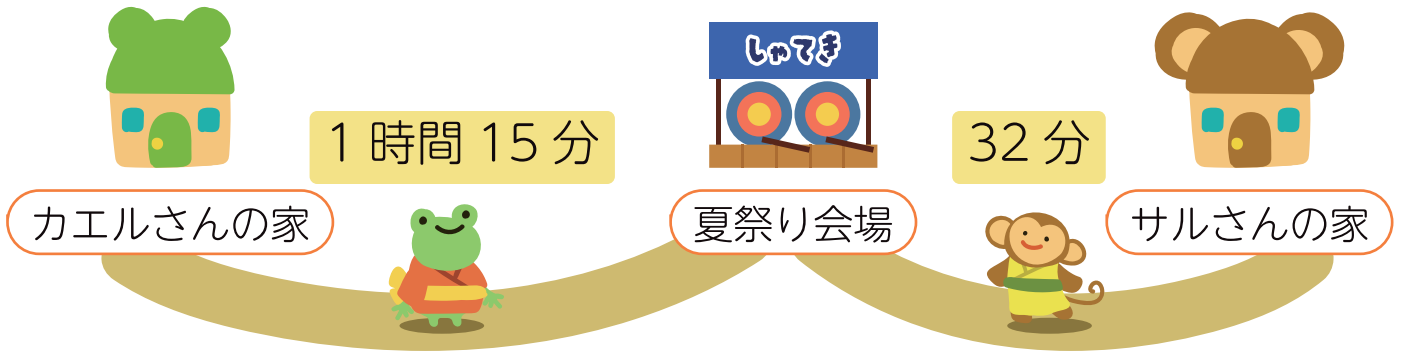




夏の総まとめ

時こくと時間

カエルさんとサルさんは、夏祭りに行きます。



① カエルさんの家から夏祭り会場まで何分かかりますか。

答え

② カエルさんは、午後 3 時に家をでます。

夏祭り会場には何時に着きますか。

答え

③ サルさんは、午後 5 時に夏祭り会場に着きました。

家を出たのは、何時何分ですか。

答え

④ カエルさんとサルさんは、午後 7 時 30 分に夏祭り会場を
でました。それぞれ、家には何時に着きますか。

カエルさん

サルさん



夏の総まとめ

わり算



- ① たこやきが56こあります。

8こずつ分けると、何人に分けられますか。

式

答え

- ② わなげのチケットが24まいあります。4人で分けると、一人分は何まいになりますか。

式

答え

- ③ くじ引きのけい品が28こあります。1台のたなに7こずつおくと、何台のたながひつようですか。

式

答え

- ④ ヨーヨーが27こあります。同じ数ずつ3色にぬるとき、同じ色のヨーヨーは何こできますか。

式

答え

- ⑤ しゃてきのチケットが45まいあります。5まいずつ分けると、何人に分けられますか。

式

答え



夏の総まとめ

あまりのあるわり算

■ くじを引きました。

計算をして、当たりの場合には () に○を書きましょう。

あまりの数が、2か3か5なら当たりです。



$$31 \div 5 = \square \text{ あまり } \square$$

()



$$27 \div 4 = \square \text{ あまり } \overset{5}{\square}$$

()



$$76 \div 8 = \square \text{ あまり } \overset{4}{\square}$$

()



$$47 \div 6 = \square \text{ あまり } \square$$

()



夏の総まとめ

円と球

■ コンパスをつかって、次のような円をかきましょう。

- を中心として、半径 3cm の円
- を中心として、直径 8cm の円
- を中心として、直径 7cm の円









夏の総まとめ

あんごう

■ 夏の総まとめプリント  ~  を全てといて、

 ~  のすうじをさがしましょう。

					
すうじ					
あんごう					

■  ~  のすうじにあう文字を、下の暗号表からさがして上の表に書きましょう。

1	2	3	4	5
い	つ	み	す	ご
6	7	8	9	
む	な	や	く	



大人の人にてつだってもらおう！

■ まめつぶワークサイト内の特別ページで、上のすうじを入力してください。特別プリントをダウンロードできます。