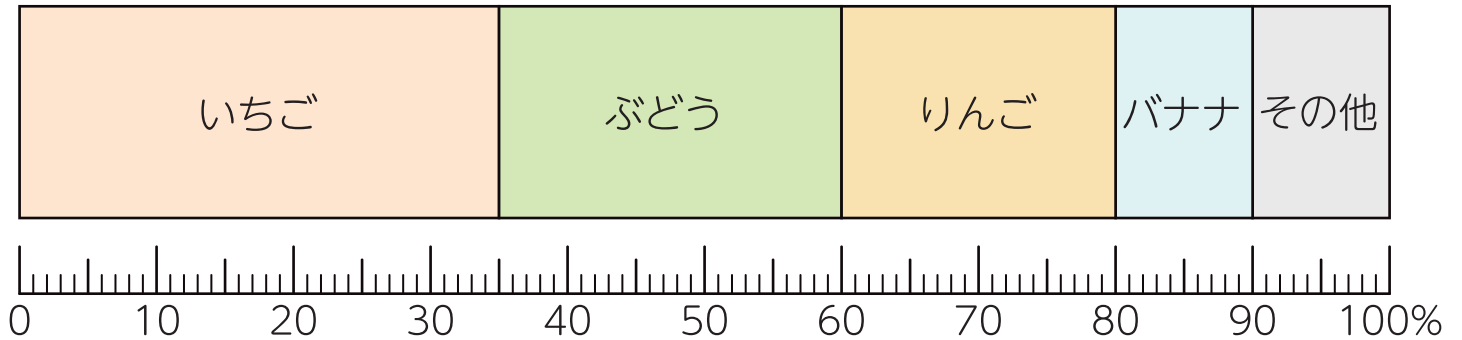


## 帯グラフと円グラフ

名前

- 1 下のグラフは、5年A組の生徒の好きな果物を調べた結果を表しています。



- ① 上のグラフは、何グラフですか。

答え

- ② いちごを好きな人は、全体の何%ですか。

答え

- ③ ぶどうを好きな人は、全体の何%ですか。


答え

- ④ 5年A組の生徒数が40人のとき、いちごを好きなひとは何人ですか。

答え

- ⑤ 5年A組の生徒数が40人のとき、りんごを好きなひとは何人ですか。

答え

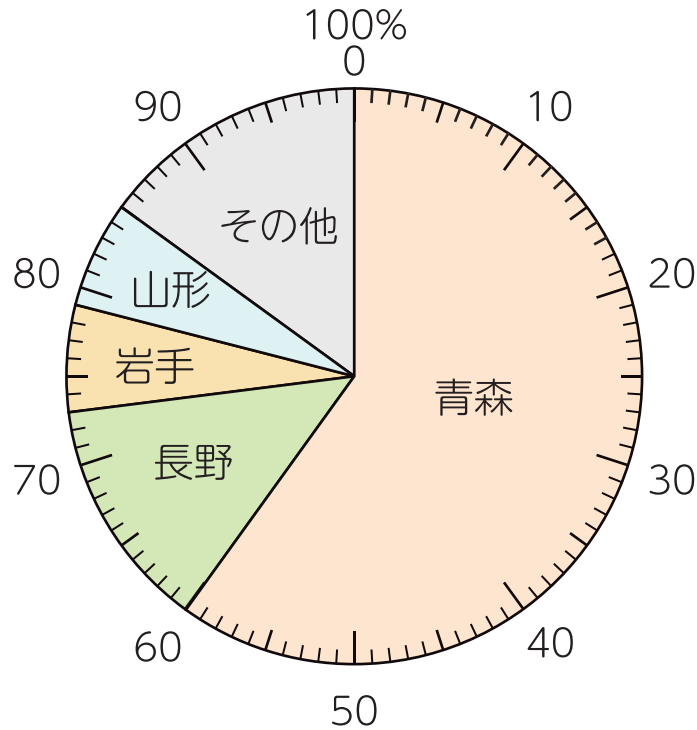


## 2

## 帯グラフと円グラフ

名前

- 1 下のグラフは、都道府県別のりんごのしゅうかく量を表しています。



- ① 上のグラフは、何グラフですか。


答え

- ② 青森県のしゅうかく量は、全体の何%ですか。

答え

- ③ 2番目にしゅうかく量が多い都道府県はどこですか。

答え

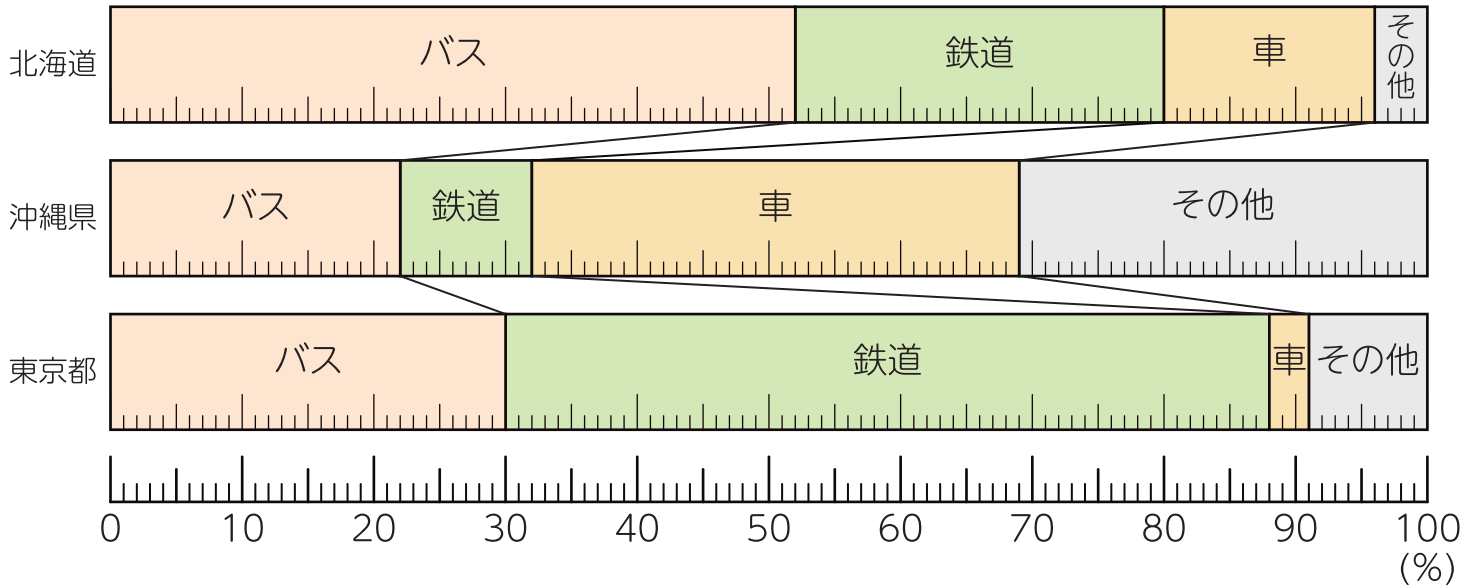


## 3

## 帯グラフと円グラフ

名前

- 1 下のグラフは、北海道、沖縄県、東京都の利用交通機関を表しています。



- ① バスの利用率は、それぞれ全体の何%ですか。

北海道  沖縄県  東京都

- ② 鉄道の利用率は、それぞれ全体の何%ですか。

北海道  沖縄県  東京都

- ③ 北海道、沖縄県、東京都のうち、車の利用率が1番高いのはどこですか。 答え

- ④ 東京都で1番多く利用されている交通機関は何ですか。

答え