




夏の総まとめ

なかまづくり

やきそば

- やきそばとわりばしはどちらがおおいですか。
せんでつないでくらべましょう。



がおおい




夏の総まとめ

10までのかず

きんぎょすくい

- あかところの きんぎょは なんひきずつ いますか。
かずをかぞえましょう。





夏の総まとめ

なんばんめ



■ かきごおりのやたいにれつができています。

にあうすうじをかきましょう。



はまえから ばんめ



はまえから ばんめ



はうしろから ばんめ

■ まえから 3ばんめまでせんでかこみましょう。






夏の総まとめ

あわせていくつ
ふえるといくつ

わなげ

■ わなげの てんすうを けいさんしましょう。

 に あうかずをかきましょう。

1 てん



2 てん




4 てん

$$\square + \square = \square \quad \square \text{ てん}$$



3 てん



5 てん



6 てん


$$\square + \square = \square \quad \square \text{ てん}$$



3 てん



4 てん



5 てん

$$\square + \square = \square \quad \boxed{1} \square \text{ てん}$$



夏の総まとめ


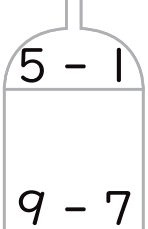






のこりはいくつ

ちがいはいくつ

■ けいさんして こたえにあった いろでぬりましょう。

じゆうにいろを きめよう！



$6 - 4$	$6 - 3$	$8 - 3$	 $5 - 4$ $9 - 6$	$8 - 6$	
$8 - 2$	 $5 - 1$ $9 - 7$	 $7 - 5$	 $5 - 2$	 $5 - 3$	$7 - 1$
	$9 - 8$	$9 - 5$			
$7 - 6$	$8 - 4$	 $4 - 2$	 $9 - 3$	 $9 - 4$	$3 - 2$
		$6 - 1$	$7 - 4$		




夏の総まとめ

かずしらべ

ふる一つ あめ

- ふる一つあめをつくります。
くだもののかずをしらべましょう。



① みぎの ○ にくだもののかずだけ
いろをぬりましょう。

② □ にかずをかきましょう。

③ いちばんおいしいくだものは
どれですか。

④ りんごはぱいんよりいくつ
おいしいですか。

○	○	○	○
○	○	○	○
○	○	○	○
○	○	○	○
○	○	○	○
○	○	○	○
○	○	○	○
○	○	○	○
○	○	○	○
○	○	○	○
			5
みかん 	りんご 	いちご 	ぱいん





夏の総まとめ

あんごう

- なつの そうまとめぷりんと  ~  をすべてといて、
 ~  のすうじをさがしましょう。

					
すうじ					
あんごう					

-  ~  のすうじにあうもじをしたのあんごうひょうからさがしてうえのひょうにかきましょう。

1	2	3	4	5
い	つ	み	す	ご
6	7	8	9	
む	な	や	く	



おとなのひとにてつだってもらおう！

- まめつぶワークサイト内の特別ページで、上のすうじを入力してください。特別プリントをダウンロードできます。