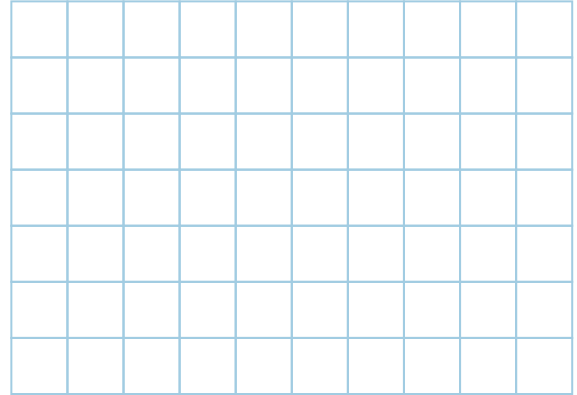
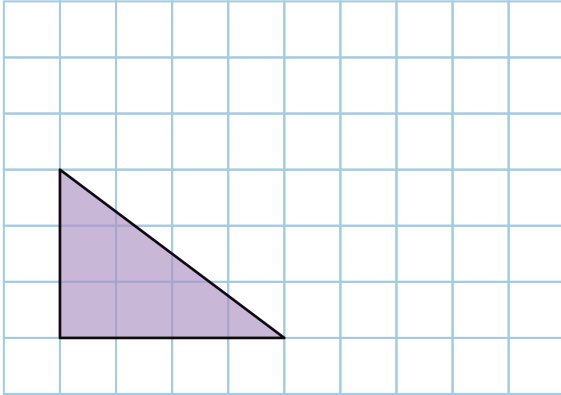


2


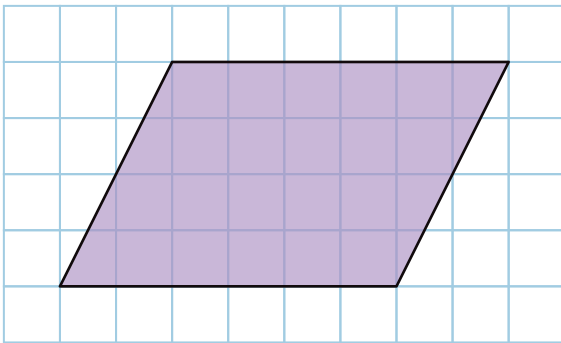
拡大図と縮図

名前

1 下の三角形の2倍の拡大図をかきましょう。



2 下の平行四辺形の $\frac{1}{2}$ の縮図をかきましょう。



3 点Aを中心にして、四角形ABCDの2倍の拡大図と、 $\frac{1}{2}$ の縮図をかきましょう。

