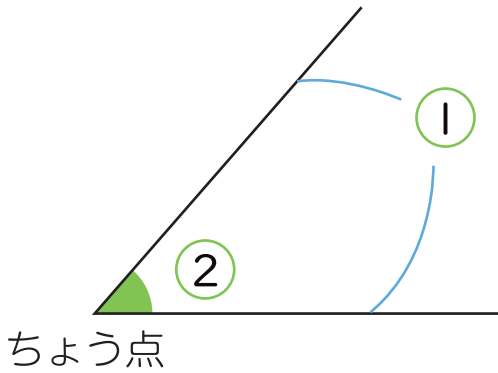


◆角

三角形と角

名前

1 にあてはまる言葉をかきましょう。

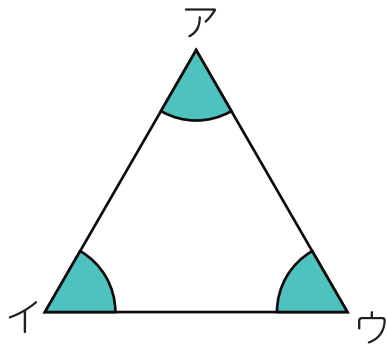


1つのちょう点から出ている

2つの がつくる形を

といいます。

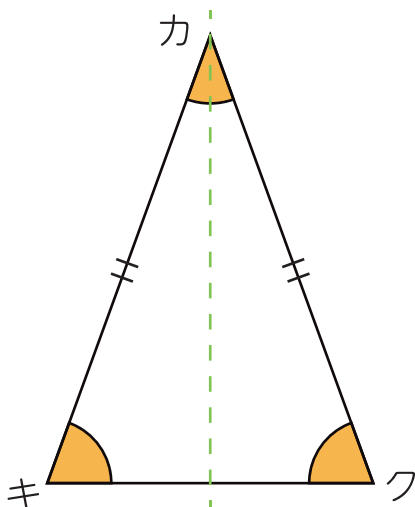
2 にあてはまる言葉をかきましょう。



正三角形の角の大きさは、

すべて です。

3 下の二等辺三角形について、問題に答えましょう。



① 左の三角形を点線 --- でおると、
どうなりますか。

()

② 角キと同じ大きさの角はどれですか。

()