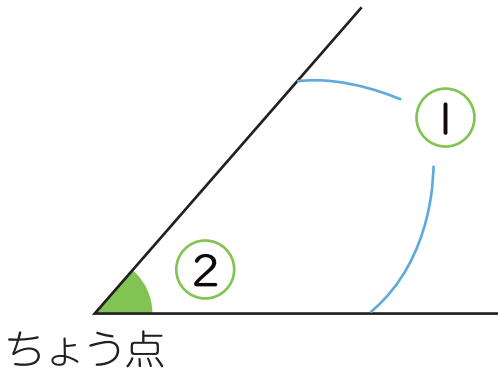


◆角

三角形と角

名前

1 にあてはまる言葉をかきましょう。

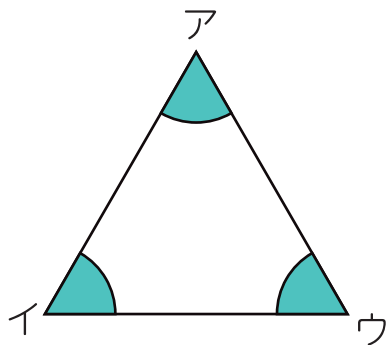


1つのちょう点から出ている

2つの がつくる形を

といいます。

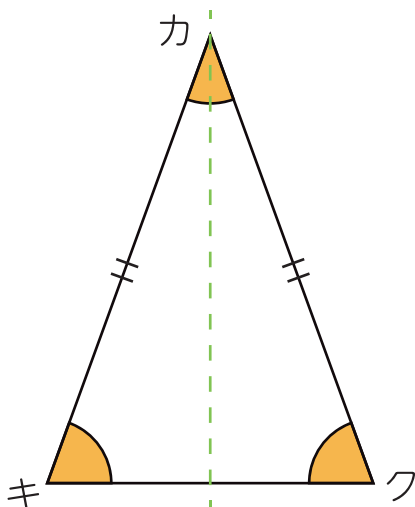
2 にあてはまる言葉をかきましょう。



正三角形の角の大きさは、

すべて です。

3 下の二等辺三角形について、問題に答えましょう。




① 左の三角形を点線 ---でおると、
どうなりますか。

()

② 角キと同じ大きさの角はどれですか。

()

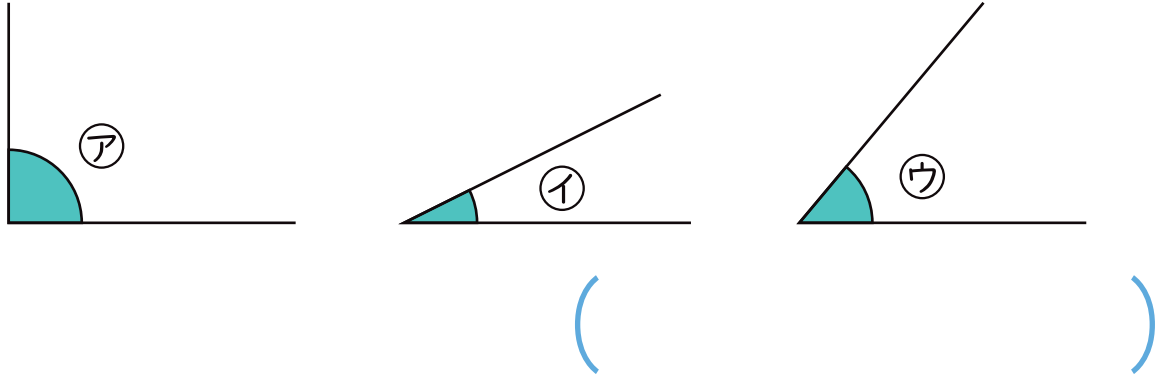


2

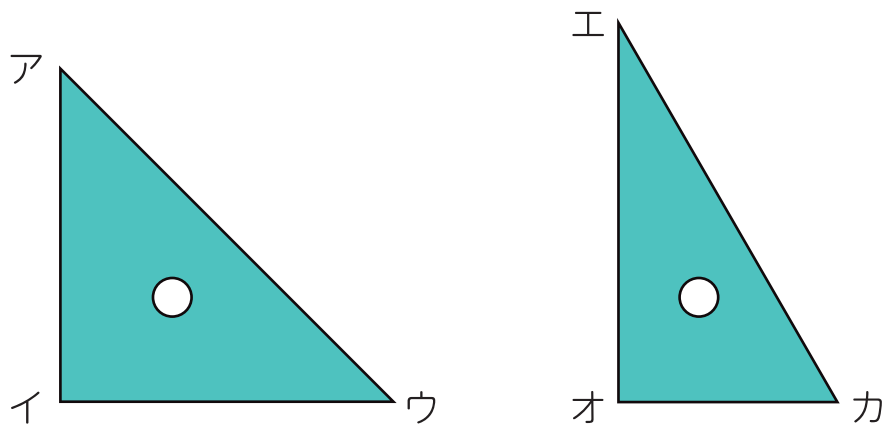
◆角
三角形と角

名前

1 角の大きさが大きいじゅんにならべましょう。



2 三角じょうぎについて、問題に答えましょう。



① 角アと同じ大きさの角はどれですか。

()

② 角イと同じ大きさの角はどれですか。

()

③ 角の大きさが1番小さい角はどれですか。

()

④ 角イと角カではどちらの方が大きいですか。

()