



角柱と円柱の体積

名前

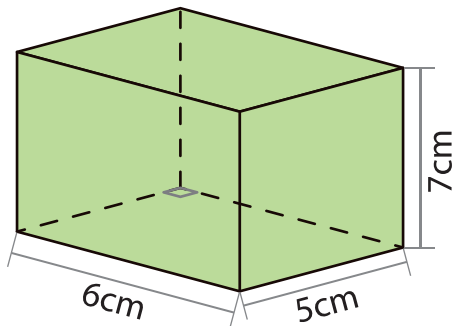


$$\text{立体の体積} = \text{底面積} \times \text{高さ}$$

1 つぎの四角柱の体積を求めましょう。

①

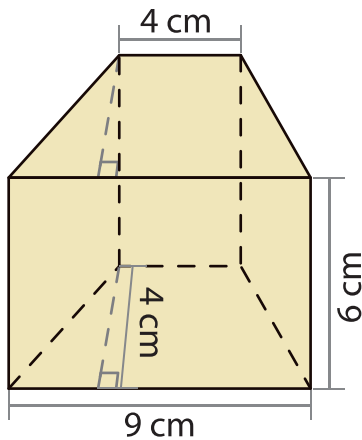
式



答え

②

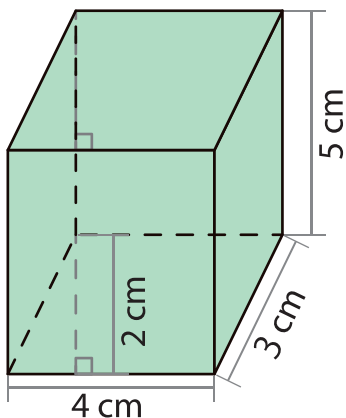
式



答え

③

式



答え