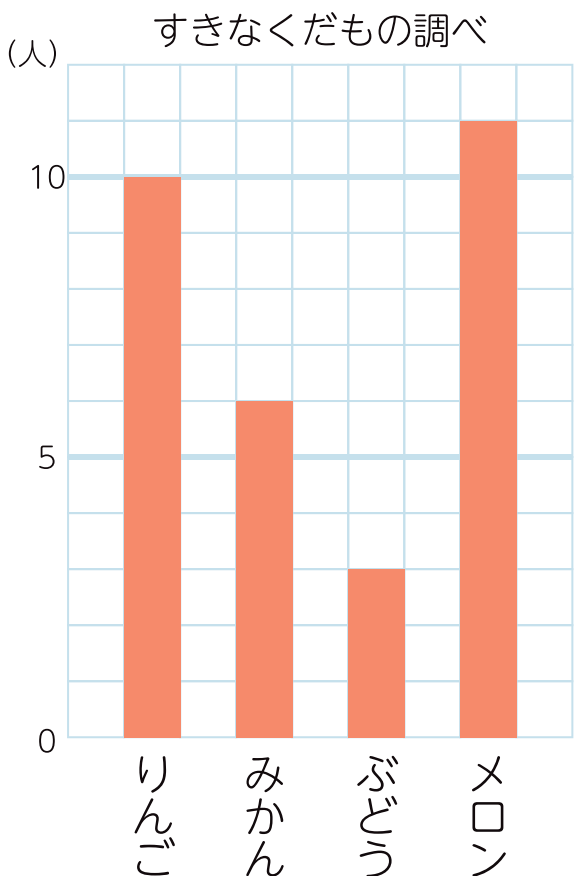


# ぼうグラフと表

名前

- 1 下のぼうグラフは、3年1組のみんなのすきなくだものをまとめたものです。問題に答えましょう。



- ① 1目もりは何人<sup>なんにん</sup>を表していますか。

( )

- ② みかんをえらんだ人は何人ですか。

( )

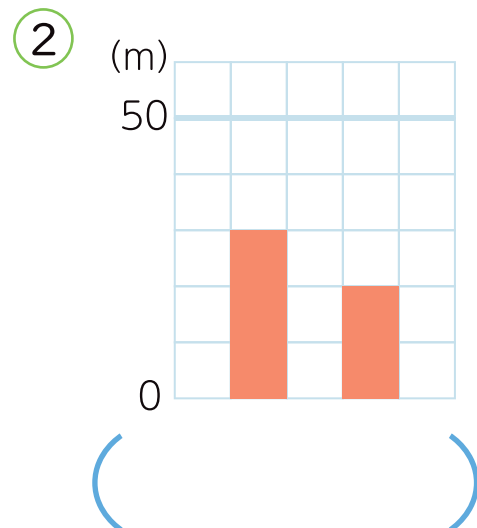
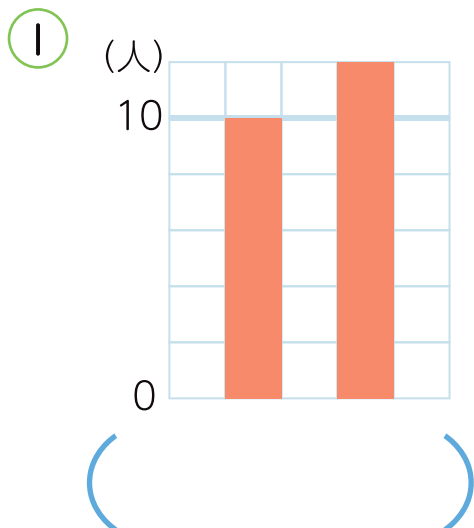
- ③ えらんだ人が1番少ないくだものはどれですか。


( )

- ④ えらんだ人が1番多いくだものはどれですか。

( )

- 2 つぎのぼうグラフの1目もりはいくつですか。



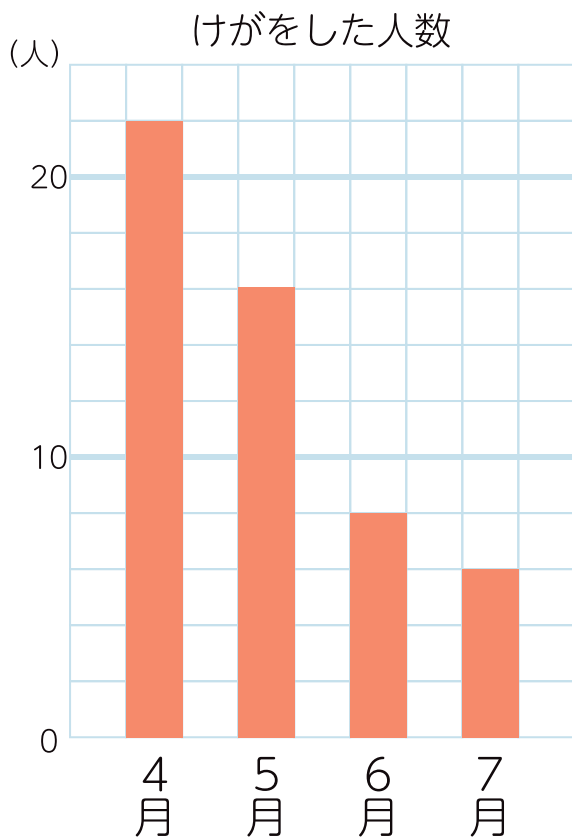


## 2

## ぼうグラフと表

名前

- 1 下のぼうグラフは、4月から7月に学校の休み時間にけがをした人の数をまとめたものです。問題に答えましょう。



- ① 6月にけがをした人は何人ですか。

( )

- ② けがをした人が1番少ない月は何月ですか。

( )

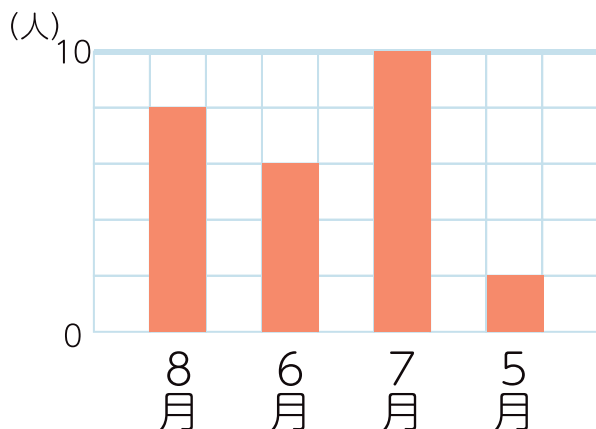
- ③ けがをした人が1番多い月は何月ですか。

( )

- ④ 4月から7月まで、けがをした人の数はどうかわっていますか。

( )

- 2 下のグラフを、へんかの様子がわかりやすいグラフにするには、どこをかえるとよいですか。1つ書きましょう。



( )

