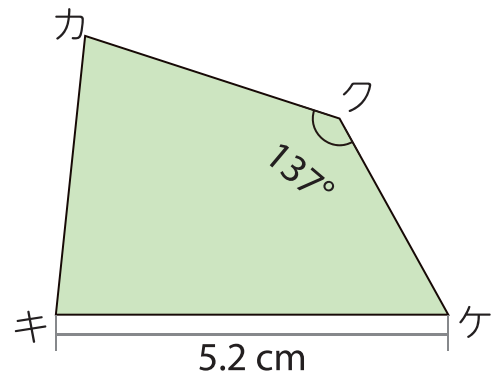
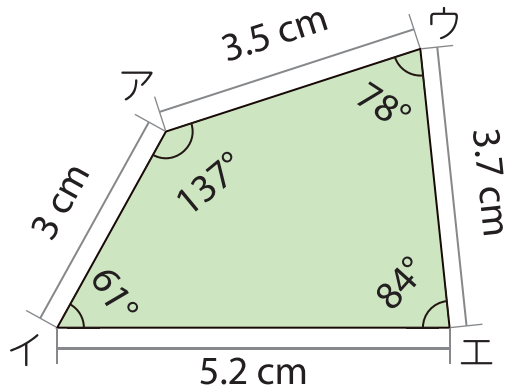




2 合同な図形

名前

1 つぎの2つの四角形は合同です。問題に答えましょう。



① 角ウに対応する角はどれですか。

()

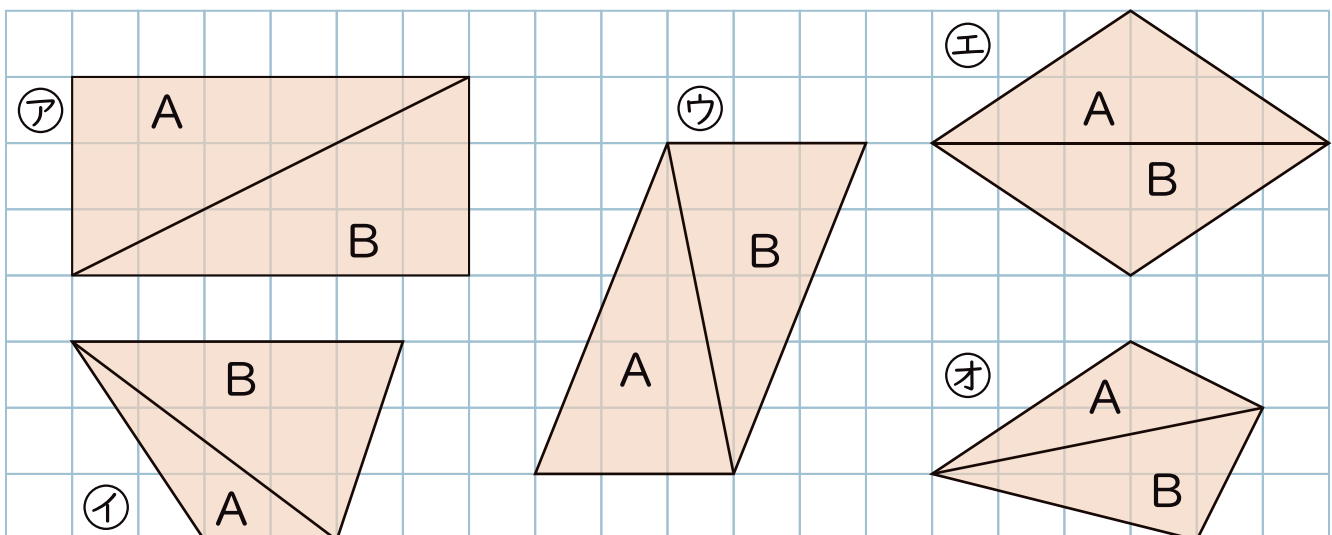
② 角ケの大きさは何°ですか。

()

③ 辺カキの長さは何 cm ですか。

()

2 つぎの図形に対角線をひいてできる三角形AとBは合同ですか。合同なものを㉠～㉣からすべて選びましょう。



三角形が合同になる図形 ()