



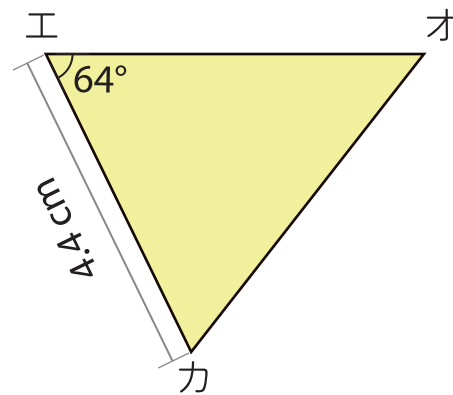
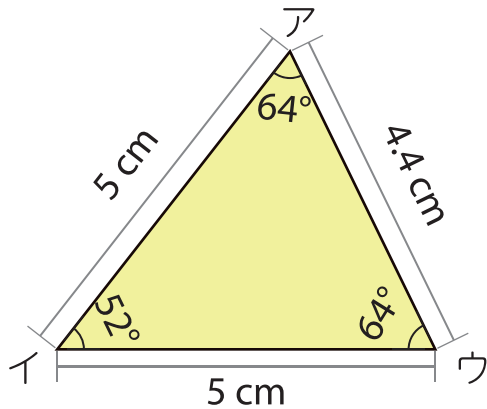
合同な図形

名前

1 にあてはまる言葉をかきましょう。

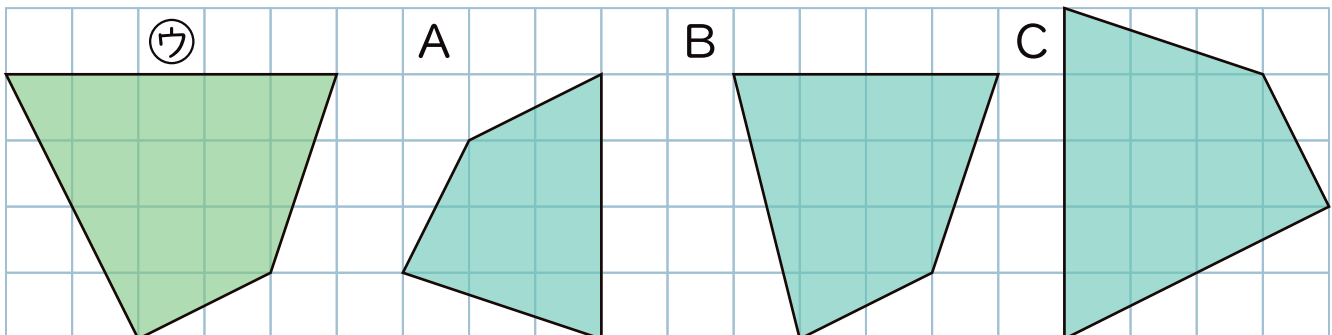
左の2つの図形①と②を重ね合わせると、ぴったり重なります。このような2つの図形は です。

2 つぎの2つの三角形は合同です。問題に答えましょう。



- ① 角アに対応する角はどれですか。 ()
- ② 辺イウに対応する辺はどれですか。 ()

3 四角形㊦と合同な図形を選びましょう。



()