



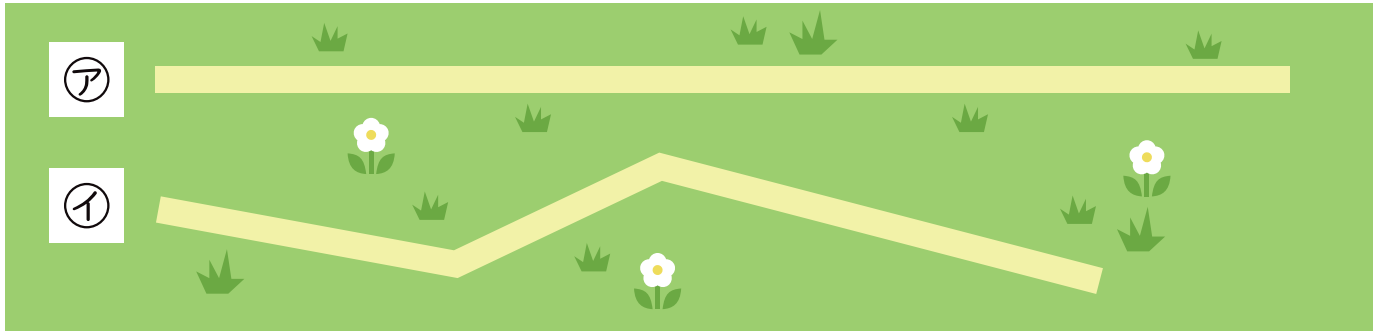
3 円と球

名前

1 どちらの方が長いですか。

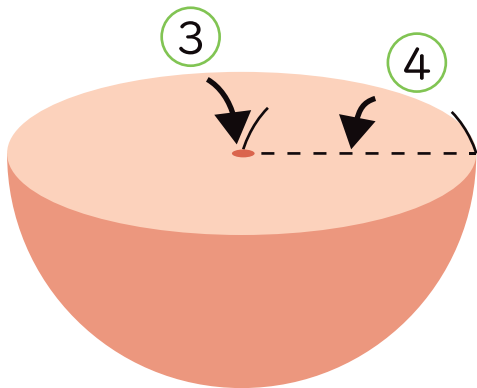
コンパスをつかってくらべましょう。

()



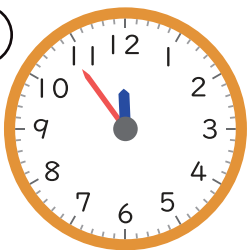
ア

イ


2 にあてはまる言葉をかきましょう。どこからみても円に見えるボールの
ような形を ① といいます。球を半分に切ったとき、その切り口は
 ② になっています。その円の中心が球の ③、円の半径が球の ④ です。

3 ①～④から円の形のもの、球の形のものをえらびましょう。

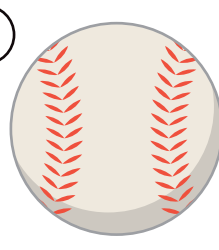
①



②



③



④



円の形 ()

球の形 ()