




時くと時間

名前

■ つぎの時間をもとめましょう。

- ① 午後 7 時から えい画を見始め、午後 9 時に見終わりました。
えい画の長さは何時間ですか。



(時間)

- ② 午前 8 時 30 分に東京えきを出発し、午前 11 時 30 分に
新大さかえきにつきました。乗車時間は何時間ですか。

(時間)

- ③ 午後 2 時 45 分から、午後 4 時 45 分までピアノの練習を
しました。何時間練習しましたか。

(時間)

- ④ 午前 10 時 15 分に東京を出発し、午後 4 時 15 分に
ホノルルに着きました。何時間かかりましたか。

(時間)

- ⑤ 午後 9 時 30 分から午前 6 時 30 分までねました。
すいみん時間は何時間ですか。

(時間)




2

時ごとと時間

名前

■ つぎの時間をもとめましょう。

- ① 午前 7 時 20 分から午前 7 時 50 分まで勉強をしました。
勉強時間は何分ですか。



(分)

- ② 午後 1 時 5 分から午後 1 時 50 分までバスに乗りました。
乗車時間は何分ですか。

(分)

- ③ 午前 9 時 35 分に家を出発し、午前 10 時 10 分に えきに
着きました。家からえきまで何分かかりますか。

(分)

- ④ 午後 4 時 40 分から午後 5 時 30 分までゲームをしました。
何分ゲームをしましたか。

(分)

- ⑤ 1 時間目は午前 8 時 45 分から午前 9 時 30 分までです。
1 時間目のじゅ業時間は何分ですか。

(分)




3

時ごとと時間

名前

■ つぎの時間をもとめましょう。

- ① 午後 6 時から午後 7 時 5 分まで宿題をしました。
何分宿題をしましたか。



(分)

- ② 午後 7 時 30 分から午後 8 時 55 分まで動画をみました。
何分みましたか。

(分)

- ③ 午前 9 時 15 分から午前 11 時 30 分までサッカーの練習を
しました。何分練習しましたか。

(分)

- ④ 午前 11 時 50 分から午後 2 時 45 分までテストを受けます。
テスト時間は何分ですか。

(分)

- ⑤ 午前 6 時 5 分に広島えきを出発し、午前 7 時 35 分に
はかたえきにつきました。乗車時間は何分ですか。

(分)




4

時くと時間

名前

■ つぎの時間をもとめましょう。

- ① 午前 11 時に東京を出発し、午後 1 時 40 分にソウルに着きました。何時間何分かかりましたか。



(時間 分)

- ② 午後 6 時 20 分から えい画を見始め、午後 8 時 40 分に見終わりました。何時間何分みましたか。

(時間 分)

- ③ 午前 11 時 55 分から午後 3 時 35 分まで、ダンスの発表会があります。発表会の時間は何時間何分ですか。

(時間 分)

- ④ 午後 9 時 45 分から午前 6 時までねました。すいみん時間は何時間何分ですか。

(時間 分)

- ⑤ 午前 9 時 25 分から午後 7 時 30 分まで、遊園地で遊びました。何時間何分あそびましたか。

(時間 分)