

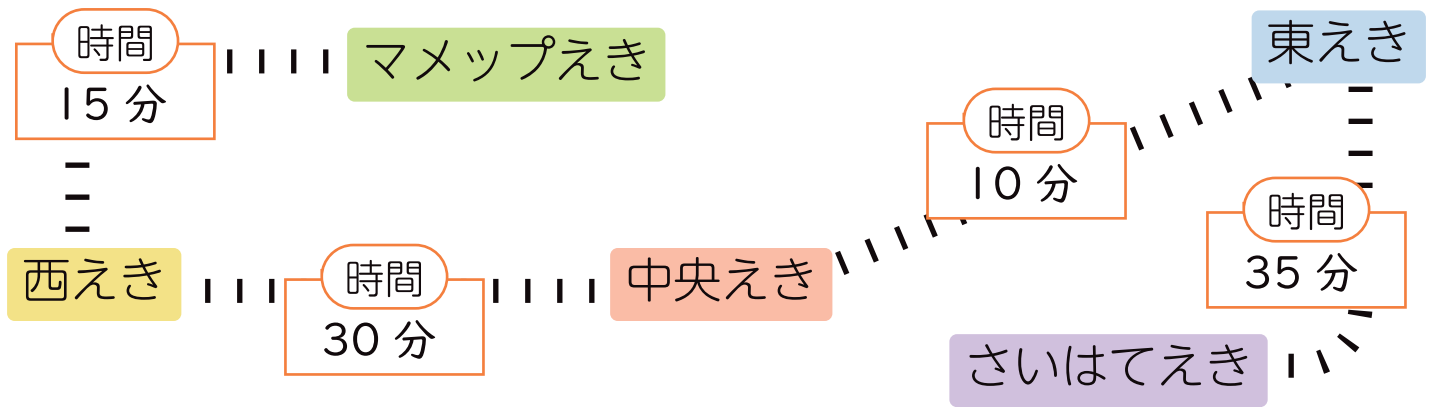


時くと時間



名前

電車の路線図をみながら問題に答えましょう。



- ① マメツプえきを午前 10 時 50 分に出発すると、西えきに着くのは何時何分になりますか。 ()
- ② 西えきを午後 3 時 45 分に出発すると、中央えきに着くのは何時何分になりますか。 ()
- ③ 中央えきを出発し、午前 8 時 5 分に東えきに着きました。中央えきを出たのは何時何分ですか。()
- ④ 東えきを出発し、午後 0 時 10 分にさいはてえきに着きました。東えきを出たのは何時何分ですか。 ()
- ⑤ マメツプえきからさいはてえきまで、乗車時間はぜんぶで何分ですか。また、何時間何分ですか。
() () () () () () () () () ()

2

時くと時間



名前

■ 新かん線の^{ろせんず}路線図をみながら^{もんだい}問題に答えましょう。

時間

65分

時間

80分

海中公園えき

星の橋えき

りすの森えき

- ① 海中公園えきを午前9時20分に出発すると、星の橋えきに着くのは何時何分になりますか。 ()
- ② りすの森えきを出発し、午後5時10分に星の橋えきに着きました。りすの森えきを出たのは何時何分ですか。 ()
- ③ 海中公園えきから星の橋えきまで、何時間何分かかりますか。 ()
- ④ 星の橋えきからりすの森えきまで、何時間何分かかりますか。 ()
- ⑤ 海中公園えきからりすの森えきまで、乗車時間はぜんぶで何分ですか。また、何時間何分ですか。
() 分 () 時間 分

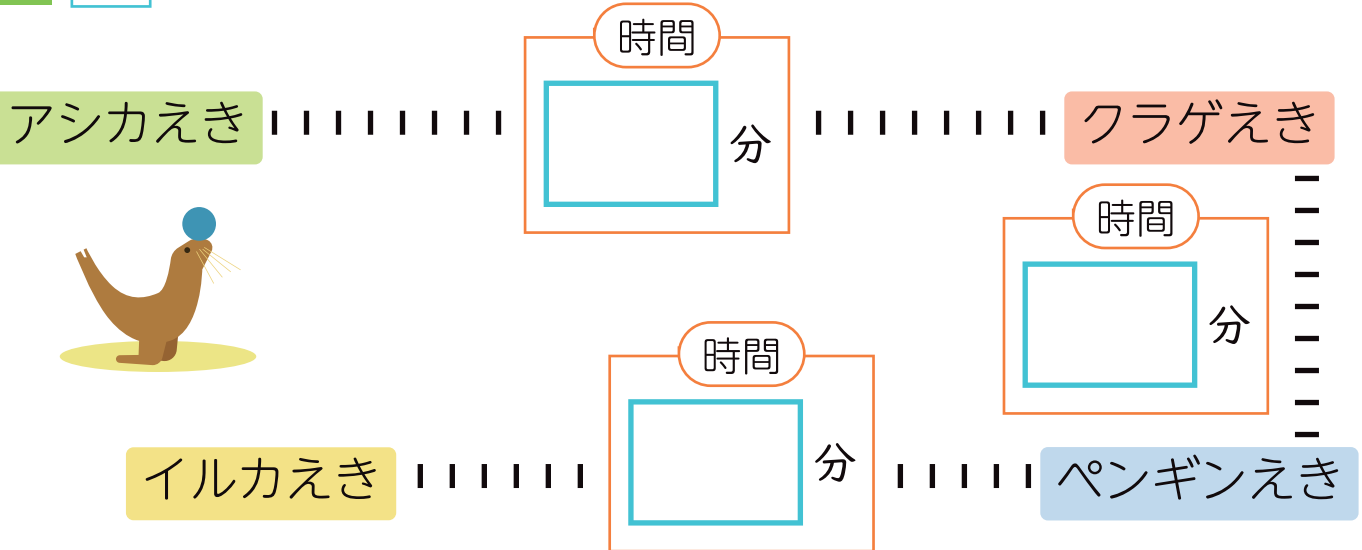
3

時くと時間



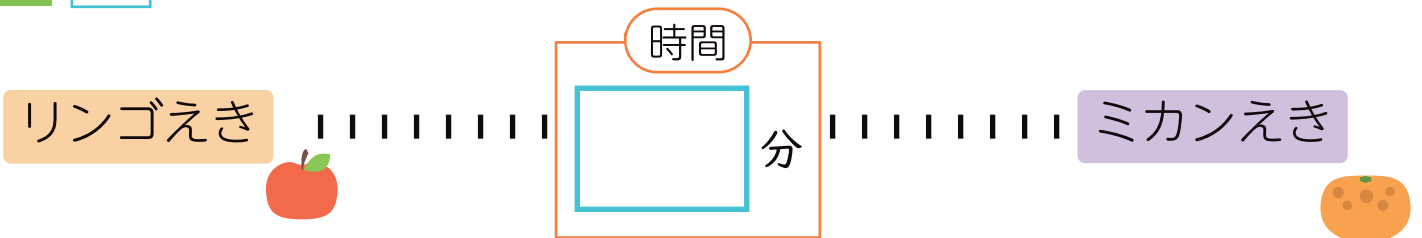
名前

1 にあてはまる数をかいて、電車の路線図をつくりましょう。



- ① 午前 6 時 45 分に アシカえき を出発すると、クラゲえきには午前 7 時 20 分に着きます。
- ② 午後 4 時 10 分に クラゲえき を出発すると、ペンギンえきには午後 5 時 30 分に着きます。
- ③ 午前 11 時 55 分に ペンギンえき を出発すると、イルカえきには午後 1 時 10 分に着きます。

2 にあてはまる数をかいて、電車の路線図をつくりましょう。



- ① リンゴえきから、ミカンえきまで 3 時間かかります。