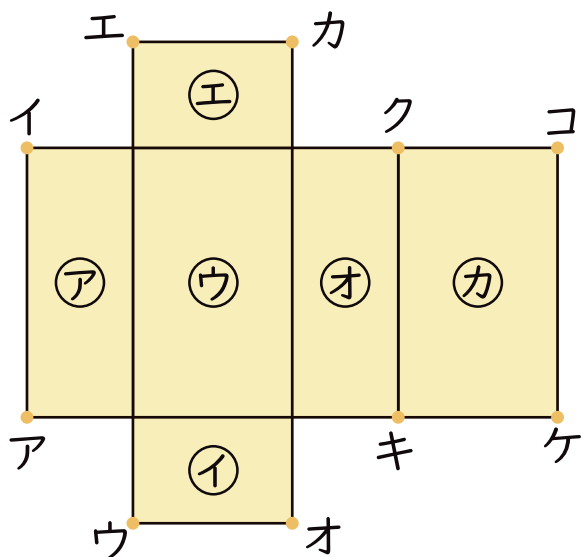




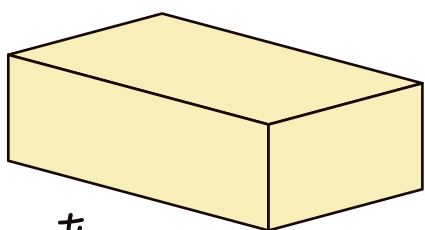
はこの形

名前

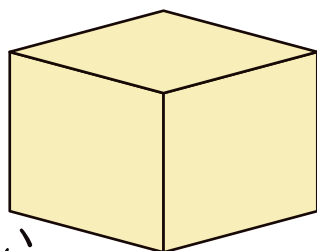
1 はこをひらいた図をみながら、もんだいに答えましょう。




- ① ㊦と同じ大きさのめんはどれですか。 ()
- ② 組み立てると㊦とおかい合うめんはどれですか。 ()
- ③ 組み立てると、ちょう点エとかさなる () と
ちょう点はどれとどれですか。
- ④ 組み立てると、へんキケとかさなるへんは ()
どれですか。
- ⑤ 組み立てると、あ～うのどのはこができますか。 ()



あ



い



う