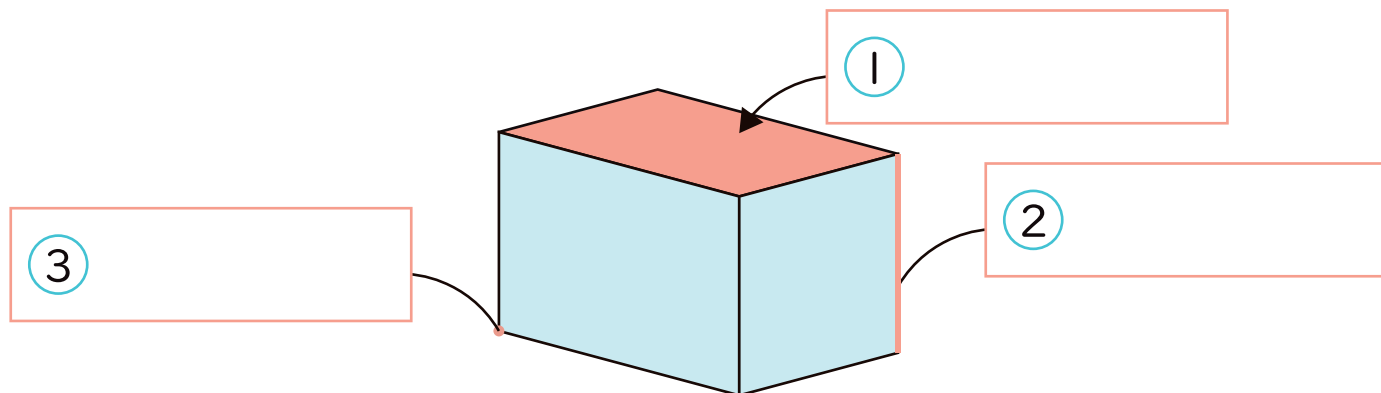


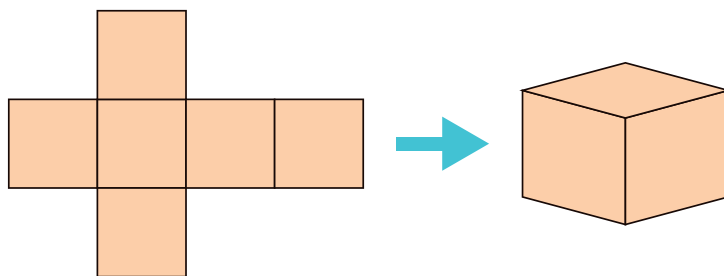
はこの形

名前

1 にあてはまる ことばをかきましょう。



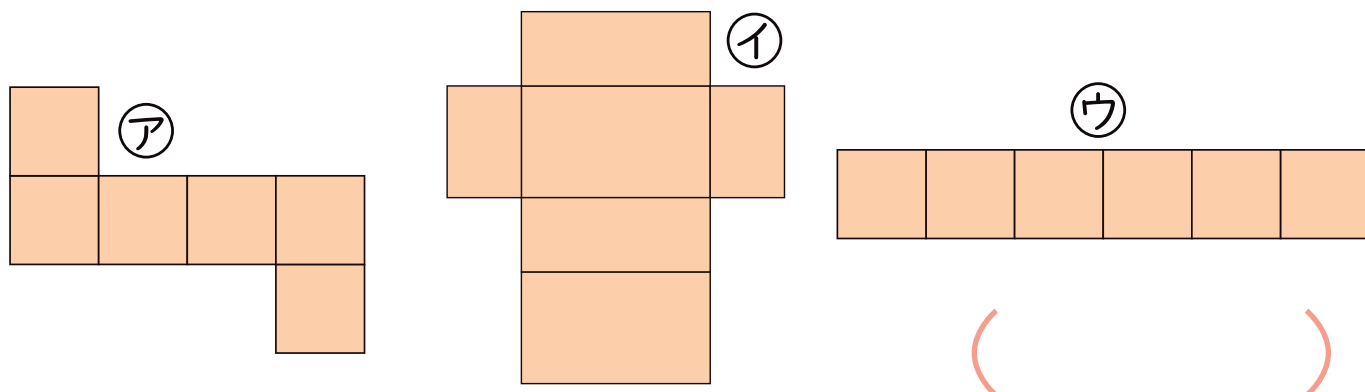
2 下の形を組み立てると、サイコロのようなはこになりました。
つぎのもんだいに答えましょう。



① めんは いくつ ありますか。 ()

② めんは どんな形ですか。 ()

③ 上と同じはこになるものを㉠～㉡からえらびましょう。

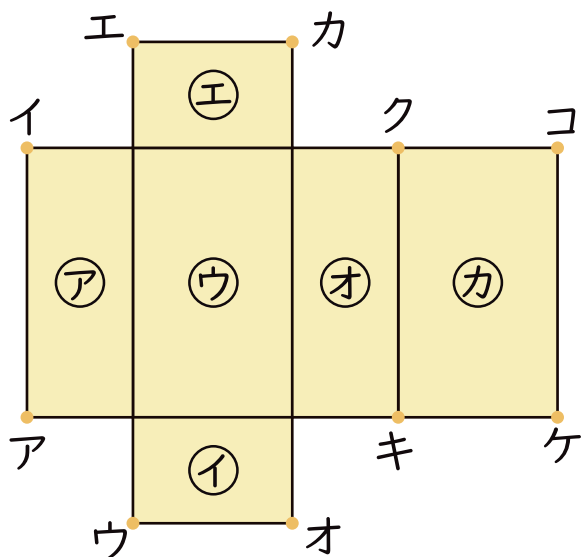




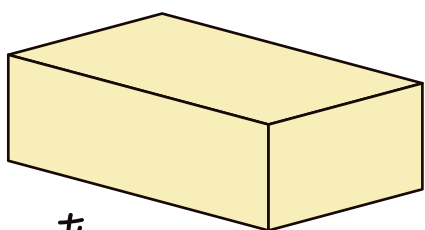
はこの形

名前

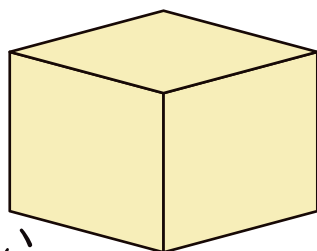
1 はこをひらいた図をみながら、もんだいに答えましょう。




- ① アと同じ大きさのめんはどれですか。 ()
- ② 組み立てるとカとおかい合うめんはどれですか。 ()
- ③ 組み立てると、ちょう点エとかさなる () と
ちょう点はどれとどれですか。
- ④ 組み立てると、へんキケとかさなるへんは ()
どれですか。
- ⑤ 組み立てると、あ～うのどのはこができますか。 ()



あ



い



う