

1000 より大きい数

1 つぎの数を数字でかきましょう。

- ① 二千五百四十九 ()
- ② 四千八百三十 ()
- ③ 七千百八 ()

2 つぎの数字の読み方をかん字でかきましょう。

- ① 1624 ()
- ② 5097 ()
- ③ 8003 ()

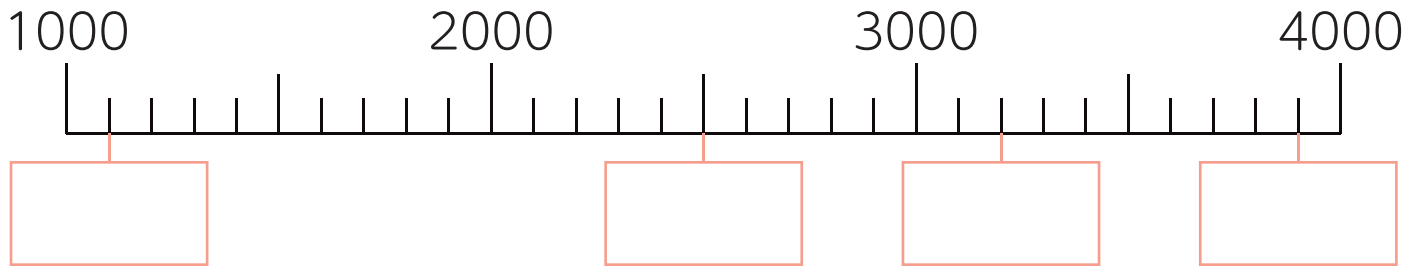
3 つぎの数は 100 をいくつ あつめた数ですか。

- ① 1200 ()
- ② 3800 ()
- ③ 9500 ()
- ④ 7000 ()



1000 より大きい数

1 にあてはまる数をかきましょう。



2 にあてはまる数をかきましょう。

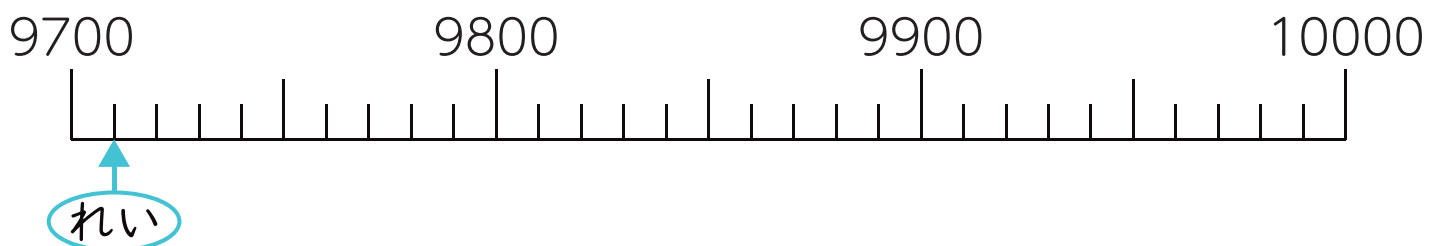
① 1850 は 1000 を こ、100 を こ、10 を こ
あつめた数です。

② 6310 は 10 を こあつめた数です。

③ 10000 は 1000 を こあつめた数です。

3 つぎの数を、れいのように↑で数直線上にあらわしましょう。

れい 9710 ① 9910 ② 9840 ③ 9990





名前

1000 より大きい数

1 つぎの計算をしましょう。

① $100 + 100 =$

② $400 + 500 =$

③ $300 + 700 =$

④ $800 + 200 =$

⑤ $400 + 700 =$

⑥ $500 - 100 =$


⑦ $800 - 600 =$


⑧ $1000 - 300 =$

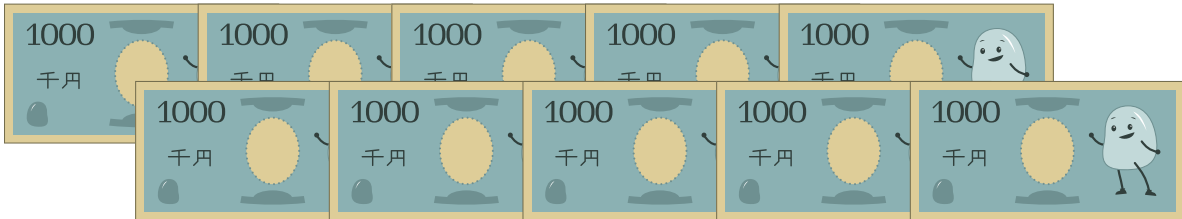
⑨ $1000 - 100 =$

⑩ $1000 - 800 =$

2 ぜんぶでいくらか数えましょう。

①  ()

②  ()

③  ()