



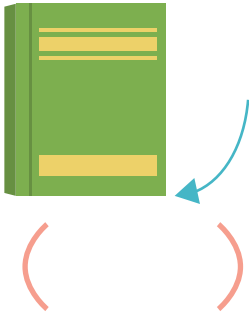
2

三角形と四角形

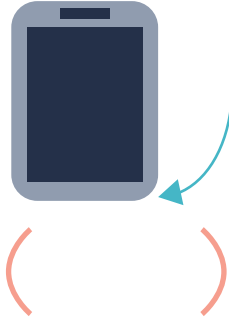
名前

1 直角のものをすべてえらんで○をつけましょう。

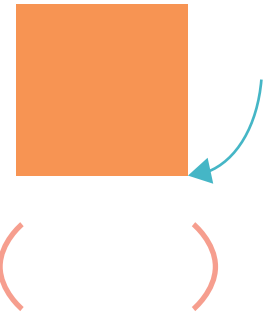
① ノートのかど



② スマホのかど



③ おりがみのかど



2 家にある「直角のもの」をさがして2つかきましょう。

()
()

3 つぎのような形の名前を□からえらんでかきましょう。

長方形・正方形・直角三角形

① 1つのかどが直角になっている三角形 ()

② 4つのかどがどれも直角になっている四角形 ()

③ 4つのかどがどれも直角で、4本のへんの長さがどれも同じになっている四角形 ()