



評価



月 日

ブロックの形 1

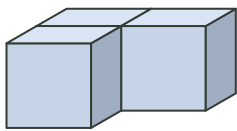
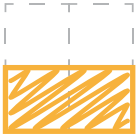
■ つぎのブロックを 4 方向からみた形をかきましょう。
ほうこう かたち

れい

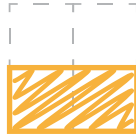
うえ



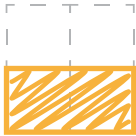
ひだり



みぎ



まえ

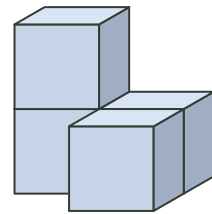


①

うえ



ひだり



みぎ



まえ

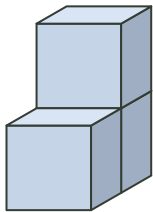


②

うえ



ひだり



みぎ

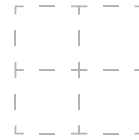


まえ

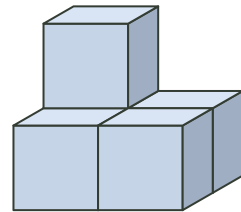
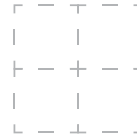


③

うえ



ひだり



みぎ



まえ

