




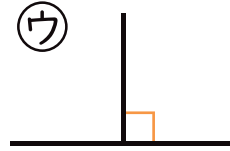
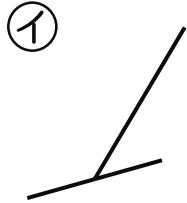
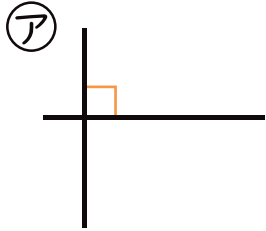
評価 😊 😊 😞

月 日

名前

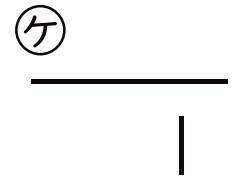
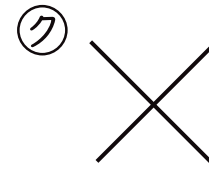
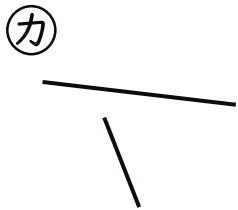
垂直、平行と四角形

1 つぎの㉠～㉥から、2本の直線が垂直であるものを
全て選びましょう。



()

2 つぎの㉠～㉣から、2本の直線が垂直であるものを
全て選びましょう。




()

3 三角じょうぎを使って、つぎの直線をかきましょう。

① 点 A を通って
直線㉠に垂直な直線

② 点 B を通って
直線㉡に垂直な直線

● A



● B