



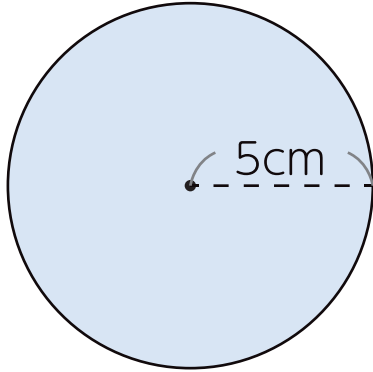
# 5 6年算数

円の面積

立体の体積

1 つぎの図形の面積を求めましょう。

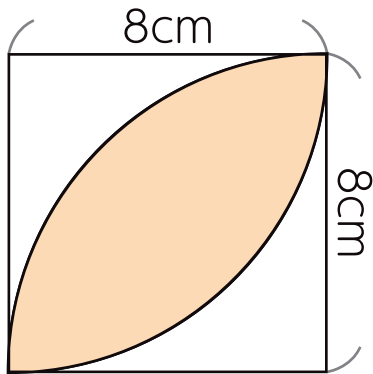
①



式

答え

②

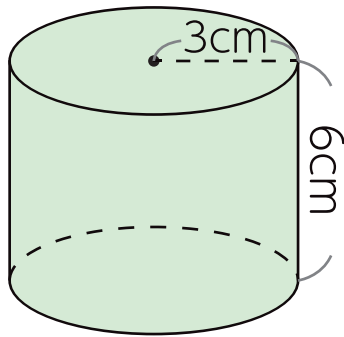


式

答え

2 つぎの立体の体積を求めましょう。

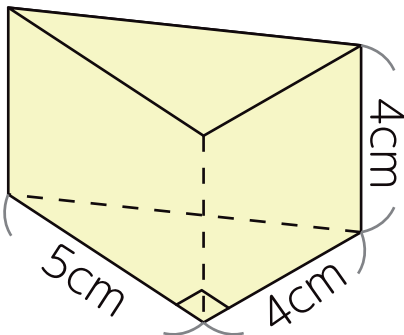
①



式

答え

②



式

答え