



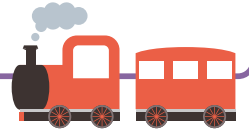
6

5年算数

分数と小数・整数

割合

図形の面積



1 つぎの数を小さい順に並べましょう。

1.3 $\frac{3}{7}$ 2 0 0.85 $1\frac{3}{4}$

()

2 定員 125 人の電車があります。つぎの問題に答えましょう。

① 75 人乗っているとき、乗客数は定員の何 % ですか。

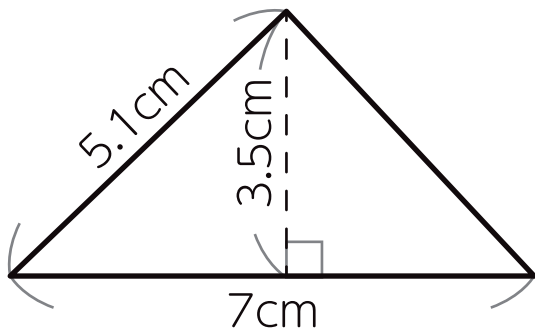
式 () 答え ()

② 乗車率が 88% のとき、乗客数は何人ですか。

式 () 答え ()

3 つぎの図形の面積を求めましょう。

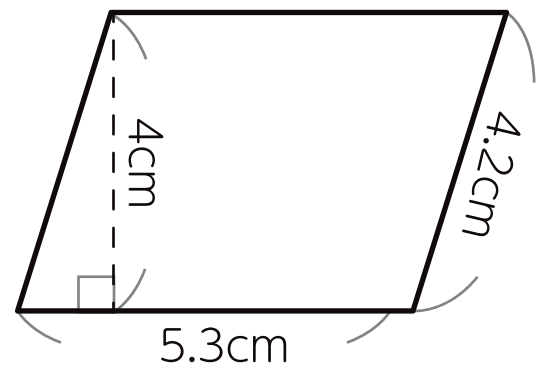
①



式

答え

②



式

答え