



6 4年算数

分数

直方体と立方体

1 計算しましょう。答えは帯分数で表しましょう。

① $\frac{4}{5} + \frac{3}{5} =$

② $1\frac{2}{8} + 2\frac{3}{8} =$

③ $5\frac{1}{4} - 2\frac{2}{4} =$

④ $2 - \frac{3}{7} =$

2 に > か < を書きましょう。

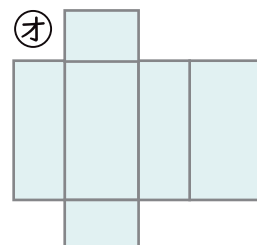
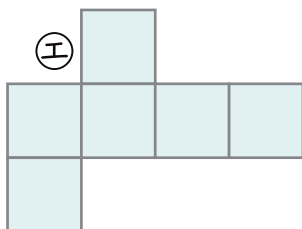
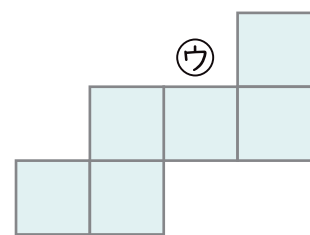
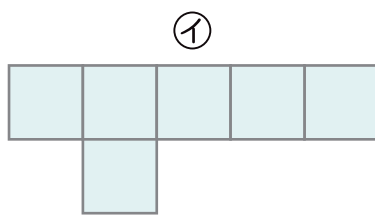
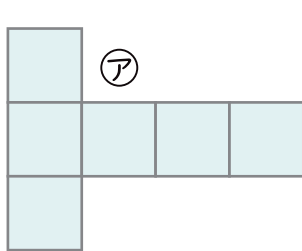
① $2\frac{1}{5}$ $1\frac{4}{5}$

② $1\frac{3}{4}$ $\frac{5}{4}$

③ 3 $2\frac{7}{12}$

④ $\frac{10}{7}$ $\frac{10}{6}$

3 立方体の展開図を全てみつけてア～オで答えましょう。



()